



T.C.
MİLLÎ EĞİTİM BAKANLIĞI
ÖLÇME, DEĞERLENDİRME VE SINAV HİZMETLERİ GENEL MÜDÜRLÜĞÜ

2021-2022 EĞİTİM VE ÖĞRETİM YILI
Sınavla Öğrenci Alacak Ortaöğretim Kurumlarına
İlişkin Merkezî Sınava Yönelik
Ekim Ayı Örnek Soruları
(SÖZEL BÖLÜM)

- Bu kitapçıkta toplam 25 soru bulunmaktadır.
 - Türkçe : 10 soru
 - T. C. İnkılap Tarihi ve Atatürkçülük : 5 soru
 - Din Kültürü ve Ahlak Bilgisi : 5 soru
 - İngilizce : 5 soru

Türkçe Örnek Soruları

1. Edebiyatımızda - - - isimlerin başında gelir Memduh Şevket Esenal. Hâlbuki renkli ve üretken bir kalemidir. “Yazı, herkes için dar günlerde bir genişliktir.” diyerek yazıyı - - - olarak gören Esenal’a göre kendi içine çekilmek, - - - anlamına gelir.

Bu metnin anlam bütünlüğü dikkate alındığında aşağıdakilerden hangisi boş bırakılan yerlerden herhangi birine getirilemez?

- A) yazıyla baş başa kalmak
B) ele avuca sığmayan
C) sığınma mekânı
D) hakkı verilmemiş

2. Kare karalamaca oyunu, karelere bölünmüş bir alanda oynanır. Bu alanda her satır ve sütunun başında sayılar yer alır. Bu sayılar, o satır ve sütunda kaç karenin karalanacağını gösterir. Örneğin bir satırda “3” yazıyorsa bu, yan yana üç karenin, aralarında boş kare kalmayacak şekilde karalanması gerektiğini ifade eder. Karalanan bölüm, satır veya sütunun herhangi bir kısmında bulunabilir. Bazı satır veya sütunların başında birden fazla sayı olabilir. Örneğin “2-2” yazan bir sütunda, önce alt alta iki kare -aralarında boş kare kalmayacak şekilde- karalanır; en az bir boşluk bırakılır ve alt alta iki kare daha karalanır.

Buna göre aşağıdakilerin hangisinde yanlışlık yapılmıştır?

A)

	3-1	3-1	1	1-1	2
4	■	■	■	■	
2	■	■			
2	■	■			
1					■
2-2	■	■		■	■

B)

	2-1	3-1	1	2-1	1-2
3	■	■	■		
2-2	■	■		■	■
2	■	■			
1					■
2-2	■	■		■	■

C)

	3-1	3	1	1-1	2
2-1	■	■		■	
2	■	■			
2	■	■			
1					■
1-3	■		■	■	

D)

	3-1	3-1	1-1	2-1	2
4	■	■	■	■	
2-1	■	■		■	
3	■	■	■		
1					■
2-2	■	■		■	■

3. I. Saf oksijen; hücre duvarlarını, hücre çekirdeğini çevreleyen zarı ve DNA'yı bozup hücre onarımını sağlayan enzimleri çalışamaz hâle getirir.
- II. Atmosferimizin yüzde 21'i oksijenden oluşur ancak insan, normal koşullar altında tümüyle oksijenden oluşan bir havayı solursa hayatta kalamaz.

Numaralanmış I. cümle ile ilgili aşağıdakilerden hangisi söylenebilir?

- A) II. cümlede sözü edilen durumun gerekçesi açıklanmıştır.
- B) II. cümledeki açıklama ile çelişen bir durumdan söz edilmiştir.
- C) II. cümlede yer alan bilgiyle ilgili örnekler yer verilmiştir.
- D) II. cümlede ortaya konan durumun koşulu belirtilmiştir.

4 ve 5. soruları aşağıdaki metne göre cevaplayınız.

Eleştiri, ünlü yazarın yazı evreninin önemli bileşenleri arasındadır. O, vitrinden ziyade gölgede kalmayı tercih eden biridir. Eleştirirken, insanların olumsuz yanlarını gösterirken bile şefkatlidir. Hakkında kaleme alınan bazı yazılarda onun suya sabuna dokunmayan bir kişilik olduğu vurgulanır. Yazarı sırf tabiatı itibarıyla edebiyat gündemine ilgisiz biri olarak nitelenmek büyük haksızlık olur. Çünkü o, zamanın ruhuna kayıtsız değildir; eleştirilerini mizahla yoğurarak bilgin bir edayla ve olumlu bir tutumla sunmayı tercih eder.






4. Bu metinde sözü edilen yazar aşağıdakilerden hangisiyle nitelendirilemez?

- A) Özgün B) Alçak gönüllü C) Sevecen D) Yapıcı

5. Altı çizili sözcüğün bu metne kattığı anlam aşağıdakilerin hangisinde vardır?

- A) İnsan zekâsı, doğanın içinde değil doğanın yanında yer alan ayrı bir kuvvettir.
- B) Bu konuyla ilgili öngörünüzün doğru olduğunu düşünmüyorum.
- C) Doğal davrandığı için çevresindekiler tarafından çok sevildi.
- D) İyi bir eğitimi, girdiği ortamlarda hemen fark edilen kuvvetli bir karakteri vardı.

6. Aşağıda bazı köpek türleri ve bu türlerin karakter özelliği, ağırlığı ve eğitilebilirlik seviyesine ilişkin bilgilere yer verilmiştir.

	 Doberman	 Beagle	 Boxer	 Golden Retriever	 Labrador
Karakter Özelliği	Hareketli	Sevecen	Sahibine sadık	Sevecen	Hareketli
Ağırlık	32-40 kg	8-14 kg	29-36 kg	25-28 kg	29-35 kg
Eğitilebilirlik Seviyesi (10 üzerinden değerlendirilmektedir.)	10	5	7	9	10

Kübra, Levent, Melek, Nalân ve Orhan adlı kişilerin sahiplendiği köpeklerle ilgili bilinenler şunlardır:

- Her bir kişi farklı bir köpek türünü sahiplenmiştir.
- Nalân'ın sahiplendiği köpeğin eğitilebilirlik seviyesi en yüksek düzeydedir.
- Levent'in sahiplendiği köpeğin ağırlığı 28 kg'ın üzerindedir.
- Orhan, eğitilebilirliği 8 puanın altında olan bir tür sahiplenmiştir.
- Kübra ve Melek'in sahiplendiği köpeklerin karakter özellikleri aynıdır.

Bu bilgilere göre,

- I. Levent
- II. Nalân
- III. Orhan

adlı kişilerden hangilerinin sahiplendiği köpeğin türü kesin olarak bellidir?

- A) Yalnız I B) Yalnız III C) I ve II D) II ve III

7. Bir hikâyede anlatılan olayları veya durumları yaşayan kurmaca varlıklara kahraman denir.

Bu açıklamaya göre,

Yatağın kenarına, sehpanın dibine oturdu. Bana baktı.

... O zaman fotoğrafçı "Gülümseyin!" demişti. Ben de sessizce gülümsemiştim...

Onu göremeyeceğim bir şekilde yüzümü duvara çevirdi. O anda gözüm oğlumun duvardaki resmine takıldı.

Denizin rengini gri yapmış. Oysa ona "Mavi olmalı!" demiştim.

Oğlumuz, "Anne, hikâye okur musun?" diye sordu. O da hikâye kitabını sehpadan alırken beni yere düşürdü ve çerçevem kırıldı.

hikâye parçasında kendisinden "ben" diye söz eden kahraman aşağıdakilerden hangisidir?

- A) Fotoğrafçı B) Duvardaki resim C) Fotoğraftaki kişi D) Odadaki sehpa

8. Ülkemizde astronomi (gök bilimi) arařtırmaları yürüten bazı gözlemevlerinin isimleri ile buralarda yer alan teleskopların apları ařađıdaki tabloda verilmiřtir.

GÖZLEMEVİNİN ADI	BULUNDUĐU ŐEHİR	TELESKOPLARIN API (cm cinsinden)
Akdeniz Üniversitesi Gözlemevi	Antalya	60
Ankara Üniversitesi Kreiken Rasathanesi	Ankara	80 - 40 - 35
Atatürk Üniversitesi ATASAM-DAG*	Erzurum	400 - 50 - 30 - 30
anakkale Onsekiz Mart Üniversitesi Ulupınar Gözlemevi	anakkale	122 - 60** - 40 - 30
Ege Üniversitesi Gözlemevi	İzmir	40 - 35
Erciyes Üniversitesi UZAYBİMER	Kayseri	40 - 35
Eskişehir Teknik Üniversitesi Yunus Emre Gözlemevi	Eskişehir	60 - 40 - 40
İnönü Üniversitesi Gözlemevi	Malatya	35
İstanbul Üniversitesi Gözlemevi	İstanbul	60** - 40
Ondokuz Mayıs Üniversitesi Gözlemevi	Samsun	35
Orta Dođu Teknik Üniversitesi Gözlemevi	Ankara	38
TÜBİTAK Ulusal Gözlemevi	Antalya	150 - 100 - 60*** - 40 - 40 - 30

* Yapım ařamasında

** İstanbul Üniversitesi ve anakkale Onsekiz Mart Üniversitesinin ortak kullandıđı teleskop

*** Robotik teleskop (Gözlem verilerini kendi kendine kaydeden teleskop)

Bu bilgilerden hareketle ařađıdakilerden hangisi yanlıřtır?

- A) Erzurum'daki gözlemevi henüz faaliyete gememiřtir.
B) Gözlemevlerinde 40 cm'lik apa sahip teleskop sayısı diđerlerinden fazladır.
C) anakkale ve İstanbul'daki gözlemevlerinin ortak kullandıđı teleskobun apı 60 cm'dir.
D) TÜBİTAK Gözlemevindeki teleskoplardan üçü, bilgileri otomatik olarak kaydetmektedir.

9. Türkiye'nin bir kültür varlıđı daha dünya mirası oldu. Malatya'nın Battalgazi ilçesinde bulunan Arslantepe Höyüğü, Dünya Miras Komitesinin aldıđı kararla UNESCO Dünya Miras Listesi'ne girdi. Gemiři çok eskilere dayanan bu yapıyı her yıl on binlerce kiři ziyaret ediyor.

Bu metinde ařađıdaki yazım kurallarından hangisine örnek yoktur?

- A) Kurum, kuruluş, kurul, birleřim, oturma ve iř yeri adlarına gelen ekler kesme iřaretiyle ayrılmaz.
B) Özel adlara getirilen iyelik, durum ve bildirme ekleri kesme iřaretiyle ayrılır.
C) Saray, köřk, han, kale, köprü, kule, anıt vb. yapı adlarının bütün kelimeleri büyük harfle bařlar.
D) Tarihî olay, ađ ve dönem adları büyük harfle bařlar.

10. Fiillere getirilen “-ma /-me, -mak /-mek, -ış /-iş /-uş /-üş” ekleriyle yapılan eylemsilere isim-fiil (ad-eylem) denir.

Buna göre aşağıdaki cümlelerde geçen altı çizili sözcüklerden hangisi isim-fiil değildir?

- A) Biraz sonra salona gelip sofrayı kurmaya başladı.
- B) Babamın içeri girişiyile tüm gözler ona çevrildi.
- C) Yıldızlar arasında yolculuk yapmak her insanın hayalidir.
- D) Osmanlı mimarisi yıllar içerisinde gelişim göstermiştir.



CEVAP ANAHTARI

TÜRKÇE

1. B
2. C
3. A
4. A
5. D
6. B
7. C
8. D
9. D
10. D

T.C. İNKILAP TARİHİ VE ATATÜRKÇÜLÜK

1. A
2. D
3. B
4. D
5. C

DİN KÜLTÜRÜ VE AHLAK BİLGİSİ

1. A
2. D
3. C
4. B
5. D

YABANCI DİL (İNGİLİZCE)

1. B
2. C
3. C
4. B
5. A



T.C.
MİLLÎ EĞİTİM BAKANLIĞI
ÖLÇME, DEĞERLENDİRME VE SINAV HİZMETLERİ GENEL MÜDÜRLÜĞÜ

2021-2022 EĞİTİM VE ÖĞRETİM YILI
Sınavla Öğrenci Alacak Ortaöğretim Kurumlarına
İlişkin Merkezî Sınava Yönelik
Kasım Ayı Örnek Soruları
(SÖZEL BÖLÜM)

- Bu kitapçıkta toplam 25 soru bulunmaktadır.
 - Türkçe : 10 soru
 - T. C. İnkılap Tarihi ve Atatürkçülük : 5 soru
 - Din Kültürü ve Ahlak Bilgisi : 5 soru
 - İngilizce : 5 soru

Türkçe Örnek Soruları

1. Modern düşünce çağında birtakım hayati kavramların etrafında geniş bir düşünce sahası açan metinleri ile İsmet Özel, edebiyat dünyasında sürekli genişleyen bir damar olarak varlığını hissettirmekte; şiirleri ve yazılarıyla ilgi odağı olmaya devam etmektedir.

Bu cümledeki altı çizili sözlerle İsmet Özel'in sırasıyla hangi özelliklerine vurgu yapılmıştır?

- A) Planlı çalışmayı seven - İnsanların beğenisini kazanan
- B) Etki alanını artıran - Çevrenin yoğun dikkatini üzerinde toplayan
- C) Önemli konularla ilgili düşünceler geliştiren - Özgün bir nitelik taşıyan
- D) Üretme gücü olan, üretken - Etrafındakilere örnek olan

2. Aşağıdaki dizelerin hangisinde anlatılanlar yay araç içinde verilen sözcükle ilişkilendirilemez?

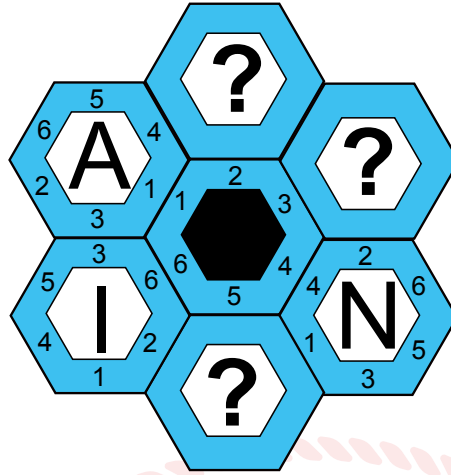
- A) Denize dönmek istiyorum
Mavi aynasında suların
Boy verip görünmek istiyorum (Hasret)
- B) Bir el ol ki oğul, yoksulu giydiresin
Ayak olursan oğul karınca ezmeysin (Merhamet)
- C) Düşünen alnımda benim her çizgi
Baharı olmayan bir kışa benzer (Yalnızlık)
- D) Gün olur toprak uyanır, ağaç uyanır, uyanır böcekler
Sarı bozkır titrer, çıplak ağaçlar yeşerir, gök yıkanır (Umut)

3. Osman Hamdi Bey, Fransız Sanatçılar Derneğinin Paris'te düzenlediği sergide yer almak üzere bir tuval üzerine yağlı boya tekniğiyle yaptığı "Kaplumbağa Terbiyecisi" adlı tabloyu -sergideki asıl adı "Kaplumbağalı Adam"dır- Japonya'daki kaplumbağa terbiyecilerinden söz eden bir yazıdan esinlenerek oluşturmuştur.

Bu cümleden hareketle "Kaplumbağa Terbiyecisi" adlı tablo ile ilgili aşağıdakilerden hangisi söylenebilir?

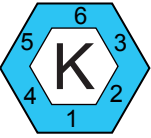
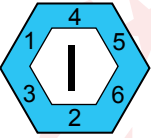
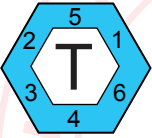
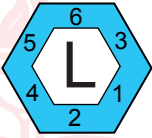
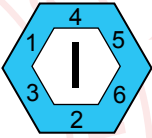


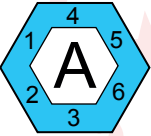
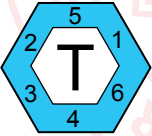

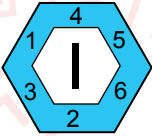
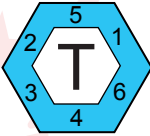
- A) İlham kaynağı, Osman Hamdi Bey'in okuduğu bir yazıdır.
- B) Birden fazla sergide farklı adlar kullanılarak sergilenmiştir.
- C) Osman Hamdi Bey, diğer tablolarından farklı bir teknikle yapmıştır.
- D) Japon kaplumbağa terbiyecilerini anlatmaktadır.

4. Aşağıda bir kelime oyununun görseli verilmiştir.



Bu kelime oyununda soru işareti ile belirtilen yerlere çeşitli harfler getirilecektir. Amaç, ortadaki altıgenin 1 numaralı kenarına denk gelen altıgendeki harften başlayarak saat yönünde anlamlı bir kelime oluşturmaktır. Fakat harfleri boşluklara getirirken ortadaki altıgenle diğer altıgenlerin birleştiği kenarlarda aynı sayıların yer alması zorunludur.

Buna göre boş bırakılan yerlere sırasıyla getirilmesi gereken harfler aşağıdakilerin hangisinde verilmiştir?

- A)    B)   
- C)    D)   

5. Anlatımı birinci kişi ağızından yapmayı seçen yazar, dikkat çekici mekân betimlemeleriyle farklı bir öykü dünyası kurmuştur.

Buna göre,

- I. İnsanların arasından sessizce çıktım, uysal bir ata binerek Karadağ'ın ormanlarına süzüldüm. Su gibi dingin olan at ansızın ürktü, dizginini koparıp dörtnala koşmaya başladı ve beni yere düşürdü.
- II. Salonun köşesinde, her gün oturup bahçeyi izlediği emektar bir koltuk vardı. Yavaşça oturdu koltuğa. Bahçedeki yıkılmış duvara, ayva ağacına ve kurumuş otlara iç çekerek baktı.
- III. Taşradaki evimiz bir yokuşun üzerindeydi. Evin alabildiğine büyük koridorunda sıralanmış odalar vardı. Kışın bu odalardan birinde otururduk. Odadan çıkınca o büyük ve sessiz koridorda ayak seslerim yankılanırdı.

metinlerinden hangileri yazarın bu cümlede sözü edilen anlatım özelliklerini yansıtır?

A) Yalnız I

B) Yalnız III

C) I ve II

D) II ve III



6. I. 1903 yılında Fransız bir kimyager, deney tüpünü laboratuvarının zeminine düşürdü. Tüp kırıldı ancak dağılmadan tek parça hâlinde kalabildi. Kimyager, deney tüpünün içinde yer alan bir maddenin parçalanmayı engellediğini anladı ama üzerine fazla kafa yormadı. Ta ki bir aracın camının nasıl kırıldığını görene dek... Böylece kolay kırılmayan camı icat ettiğini fark etti. Bu buluşu 1920'lerde arabaların ön camında kullanılmaya başlandı. (Tasadüf)
- II. Lokantada sipariş ettiği patates kızartmasını beğenmeyen bir müşteri, patateslerin daha ince ve kızarmış olması gerektiğini belirtti. Bunun üzerine aşçı, patatesleri çok ince kesip kupkuru olana dek kızarttı. Patateslerin bu hâlini herkes çok beğendi ve patates cipsi bu şekilde ortaya çıktı. (Gözlem)
- III. Sonar, bir gemi veya denizaltının yerini ses dalgaları yardımıyla belirleyen bir sistemdir. 1950'lerde bu sistemin tıpta da kullanılabileceği düşünülerek ultrason cihazı geliştirildi. Bu cihaz sayesinde anne karnından ses dalgaları geçirilerek bebeğin şekli görülebilmektedir. "Ultrasonik tarama" adı verilen bu işlem, anne karnındaki bebeklerin sağlık durumunu kontrol etmede kullanılmaktadır. (İlham)

Numaralanmış parçaların hangilerinde, sözü edilen buluşun ortaya çıkışında yay araç içindeki kavram etkili olmuştur?

A) Yalnız I

B) Yalnız II

C) I ve III

D) II ve III

7. Bir orkestrada yer alan bazı müzik aletleri ve bunların sınıflandırması şu şekildedir:

Yaylılar	Vurmalılar	Tahta Üflemeliler	Bakır Üflemeliler
Keman, viyola, viyolonsel ve kontrbas	Timpani, zil, marakas ve trambet	Flüt, obua, klarnet ve fagot	Kornet, trompet, trombon ve tuba

Orkestranın sahnedeki dizilimiyle ilgili bilinenler şunlardır:

- 1. sırada vurmalı müzik aleti yoktur.
- Yaylı müzik aletlerinin tümü farklı sıralarda ve art arda dizilmiştir.
- Tahta üflemeli herhangi bir çalgı ile bakır üflemeli çalgı yan yana gelmemiştir.

Bu bilgilere göre orkestranın sahnedeki doğru dizilimi aşağıdakilerden hangisidir?

A) (Sahne Önü)

4. Sıra Zil Trambet Kontrbas Kornet
3. Sıra Obua Marakas Tuba Viyolonsel
2. Sıra Klarnet Timpani Viyola Trombon
1. Sıra Fagot Flüt Keman Trompet

B) (Sahne Önü)

4. Sıra Kontrbas Trambet Zil Kornet
3. Sıra Viyolonsel Marakas Obua Tuba
2. Sıra Viyola Timpani Klarnet Trombon
1. Sıra Keman Flüt Fagot Trompet

C) (Sahne Önü)

4. Sıra Zil Trambet Kontrbas Kornet
3. Sıra Obua Marakas Viyolonsel Tuba
2. Sıra Klarnet Timpani Viyola Trombon
1. Sıra Fagot Flüt Keman Trompet

D) (Sahne Önü)

4. Sıra Flüt Trambet Kontrbas Kornet
3. Sıra Obua Marakas Viyolonsel Tuba
2. Sıra Klarnet Timpani Viyola Trombon
1. Sıra Fagot Zil Keman Trompet

8. Yunancada “yaşam” anlamına gelen “bios” ve “taklit” anlamına gelen “mimesis” sözcüklerinden oluşan biyomimikri, tasarım yaparken ve yenilikçi teknolojiler geliştirirken doğadan esinlenmek olarak tanımlanabilir. Biyomimikri; mimari, yapay zekâ, robotik, endüstri, ulaşım gibi alanlarda kullanılan birçok ürünün, kısaca günümüz teknolojisinin temelini oluşturur.

Bu metne göre aşağıdakilerden hangisi biyomimikriye örnek olamaz?

- A) En az malzemeyle en fazla yer inşa edilebilmesi amacıyla bal peteklerinin arılar tarafından altıgen şeklinde yapılması
B) Dalgıç giysilerinin, köpek balıklarının hızlı yüzmelerini sağlayan derilerinden ilham alınarak geliştirilmesi
C) Ayçiçeğinin güneşe doğru yönelme hareketinden yola çıkılarak gölgeli ve güneşli alan arasındaki sıcaklık farkına göre hareket eden güneş panellerinin üretilmesi
D) Geko kertenkelesinin ayağının altında bulunan ve tırmanmasını kolaylaştıran tüy benzeri dokudan hareketle farklı yüzeylere kolaylıkla tırmanabilen robotların yapılması

9. Sıfat-fiiller; fiil kök veya gövdelerine “-an, -ası, -maz, -ar, -dık, -acak, -mış...” ekleri getirilerek yapılır ve cümlede genellikle sıfat görevinde kullanılır.

Bu açıklamaya göre,

Rusya’da bulunan bir araştırma enstitüsündeki bilim insanları, Sibiry’a’dan aldıkları buz örneği içerisinde yaklaşık

I

II

24.000 yıldır uyuyan bir tekerlekli hayvan buldu. Tatlı sularda yaşayan tekerlekli hayvan, mikroskopik boyutlarda bir canlı. Donmuş hayvanın laboratuvar ortamında uyandırılarak yaşamına geri döndürüldüğü belirtildi.

III

IV

metninde numaralanmış sıfat-fiillerden hangisi sıfat görevinde kullanılmamıştır?

- A) I B) II C) III D) IV

10. İnsan vücudunda çok az bulunan iyot; süt, yumurta, balık gibi yiyeceklerin tüketimiyle vücuda alınır. Vücut, ona çok az miktarda ihtiyaç duysa da bir kişinin yaşamı için iyot büyük önem taşıyor. İyodun birçok alanda görevi bulunuyor: büyüme ve gelişme, sinir sisteminin normal çalışması, vücut ısısının düzenlenmesi, vücut enerjisinin kontrol edilmesi...

Bu parçada aşağıda işlevi verilen noktalama işaretlerinden hangisinin örneği yoktur?

- A) Birbiri ardınca sıralanan eş görevli kelime ve kelime gruplarının arasına virgül konur.
B) Alıntılarda başta, ortada ve sonda alınmayan kelime veya bölümlerin yerine üç nokta konur.
C) İki kenden fazla eş değer öğeler arasında virgül bulunan cümlelerde öznenin sonra noktalı virgül konabilir.
D) Kendisiyle ilgili örnek verilecek cümlenin sonuna iki nokta konur.

CEVAP ANAHTARI

TÜRKÇE

1. B
2. C
3. A
4. D
5. B
6. C
7. C
8. A
9. D
10. B

T.C. İNKILAP TARİHİ VE ATATÜRKÇÜLÜK

1. C
2. B
3. A
4. D
5. B

DİN KÜLTÜRÜ VE AHLAK BİLGİSİ

1. A
2. C
3. C
4. D
5. B

YABANCI DİL (İNGİLİZCE)

1. D
2. B
3. C
4. A
5. D



T.C.
MİLLÎ EĞİTİM BAKANLIĞI
ÖLÇME, DEĞERLENDİRME VE SINAV HİZMETLERİ GENEL MÜDÜRLÜĞÜ

2021-2022 EĞİTİM VE ÖĞRETİM YILI
Sınavla Öğrenci Alacak Ortaöğretim Kurumlarına
İlişkin Merkezî Sınava Yönelik
Aralık Ayı Örnek Soruları
(SÖZEL BÖLÜM)

Bu kitapçıkta toplam 25 soru bulunmaktadır.

- Türkçe : 10 soru
- T. C. İnkılap Tarihi ve Atatürkçülük : 5 soru
- Din Kültürü ve Ahlak Bilgisi : 5 soru
- İngilizce : 5 soru

Türkçe Örnek Soruları

1. Bir sorunla karşılaştığımızda -belirsizliği sevmediğimizden belki- durumun hemen çözülmesini isteriz. Bizi zorlayan durumun birçok çözümü olsa da biz ilk aşamada başkalarının denediği yollardan gitmek isteriz. Hâlbuki çok daha güzel bir yol olabilir. Bu konuyla ilgili Cevdet Kudret “Bir soruna yeni bir çözüm üretmektense daha önce üretilmiş çözümü kullanmak kolayımıza gelir çünkü çoğumuz düşünce mirasidesiyizdir.” der.

Aşağıdakilerin hangisinde kullanılan deyim bu metindeki altı çizili sözle ilişkilendirilebilir?

- A) Hazıra konmak gibi bir huyu vardı ve bunu kimse yadırgamıyordu.
B) Sırt sırta vererek bütün zorlukların üstesinden geldiler.
C) Yıllardır har vurup harman savurmasaydı şimdi sıkıntı yaşamazdı.
D) Alp, arkadaşlarının yemek paralarını kendi cebinden verdi.



2. Aynı yoldan, aynı hızla gidilmesine rağmen dönüş yolculuğunun gidişten kısa sürdüğü hissedilebilir. İlk olarak 1950’lerde tespit edilen bu duruma “dönüş yolculuğu etkisi” denir. Dönüş yolculuğu etkisi, gidiş esnasında aşinalık kazanılan yolun dönüşte daha kısa algılanması temeline dayanıyor. Zaman algısına yönelik çalışmalar da bu temele dayanak oluşturuyor. İlk defa tecrübe edilen bir durumda bilinmedik uyarıların etkisiyle zaman daha yavaş akıyormuş gibi algılanır. Dolayısıyla dönüş yolculuğunun süresine dair tahminler, gidiş yolculuğunun süresine dair tahminlere kıyasla gerçek yolculuk süresine daha yakındır.

Bu metinle ilgili aşağıdakilerden hangisi söylenemez?

- A) Bir kavramın tanımlaması yapılmıştır.
B) Ele alınan düşüncenin gerekçelerine yer verilmiştir.
C) Karşılaştırmadan yararlanılmıştır.
D) Öne sürülen fikirler örneklendirilmiştir.

3. • ABD'de bulunan Mount Weather, felaket durumlarında devreye giren bir acil durum yerleşkesidir. 1958 yılında Sovyet Rusya'nın, Sputnik adlı uydusunu uzaya fırlatmasının ardından savunma amaçlı kurulmuştur. Yalnızca üst düzey devlet görevlilerinin girebildiği bu yerleşke, hem yer altında hem de yer üstünde bulundurduğu alanlarıyla yüksek güvenlik sağlamaktadır.
- Fransa'da yer alan Lascaux Mağarası, insanlık tarihinde bilinen ilk duvar resimlerine sahip. 1940'ta keşfedilen mağaradaki resimlere vücut ısı ve solunumdan kaynaklanan nem ve karbondioksit zarar verdiği için insanların buraya girmesine izin verilmiyor. 1979 yılında UNESCO tarafından Dünya Mirası Listesi'ne alınan mağarada altı yüzden fazla duvar resmi bulunuyor.
- Surtsey Adası, üç yıl süren volkanik patlamalar sonucunda 1963 yılında oluştu. Bu adada insan müdahalesi gerçekleşmeden oluşan ekosistem gözlemleniyor. Bunun için de adaya sadece bilim insanları kabul ediliyor. Fakat detaylı bir taramadan geçtikten sonra... Çünkü adaya dışarıdan herhangi bir tohumun getirilmemesi çok önemli.

Bu metinlerde sözü edilen yerlerin ortak özelliği aşağıdakilerden hangisidir?

- A) İnsanların çoğu tarafından bilinmemesi
B) Turistik ziyaretin mümkün olmaması
C) Bilimsel çalışmalar için kullanılması
D) Kültürel değere sahip olması



4. Nesnelerin interneti; bilgi üretebilen ve internet üzerinden bunu paylaşabilen tüm bilgi işlem cihazlarını, mekanik ve dijital makineleri birbirine bağlayan teknolojiye verilen isimdir. Bu teknoloji, her bir cihaza farklı bir kimlik atayarak onların birbirleriyle veri paylaşımı yapmalarını mümkün kılar. Bu sistem, günümüzde sanayide kullanılan büyük makinelerden küçük ev aletlerine kadar pek çok alanda yer almaktadır. Neredeyse tüm sektörler daha verimli çalışmak için nesnelerin interneti uygulamalarından yararlanmaktadır.

Bu parçaya göre,

- I. Ahmet Bey'in, pamuk tarlasındaki sulama sistemini iş yerindeki bilgisayar üzerinden çalıştırması
II. Meliha Hanım'ın, çamaşır makinesinin üzerindeki göstergiyi kullanarak suyun sıcaklığını ayarlaması
III. Mehmet Bey'in, evindeki fırın ve süpürgeyi cep telefonuna indirdiği bir program üzerinden kontrol etmesi

durumlarından hangileri nesnelerin internetine örnek olabilir?

- A) Yalnız I B) Yalnız II C) I ve III D) II ve III

5. Aşağıdakilerden hangisi "Müzik aleti çalmak beyin fonksiyonlarını olumlu yönde etkiler mi?" sorusuna cevap vermektedir?

- A) Beyinde gri madde denen bir doku vardır. Bu maddenin miktarı arttıkça insanın görsel ve işitsel algısı gelişmektedir. Yapılan araştırmalarda enstrüman çalan kişilerin beyinlerindeki bu maddenin diğer insanlara kıyasla daha fazla olduğu anlaşılmıştır.
- B) İşitsel gelişimin çok erken başlaması nedeniyle hamileliğin altıncı ayından itibaren bebeklerin, müziği algılayabildikleri ve farklı melodileri ayırt edebildikleri belirtiliyor. Dolayısıyla müziğin pek çok alanda etkilerini de erken yaşta görmek mümkün oluyor.
- C) Yakın zamanda yapılan çalışmalara göre özellikle anne ile bebeğin beraber ritim tutarak hareket etmeleri ve yüksek sesle şarkı söylemeleri gibi müzikal davranışlar, anne ile bebek arasındaki bağın güçlenmesinde önemli bir rol oynuyor.
- D) Müziğin matematiksel yapısı nedeniyle insanlara müzik dinletmenin matematik yetilerinin gelişmesine katkı sağladığı düşüncesi yaygın olsa da birçok çalışmada bu konuda büyük bir etkinin varlığı henüz tespit edilememiştir.

6. Medya okuryazarlığı, kitle iletişim araçlarının verdiği mesajları doğru kavrayabilmeyi ve gerçek dünya ile medya dünyası arasındaki sınırı fark edebilmeyi sağlar. Medya okuryazarlığının bireylere kazandırdığı bazı beceriler şunlardır:

- I. Erişim becerisi: Bilgiye gazete, televizyon vb. medya araçlarından ulaşabilmektir.
- II. Çözümleme becerisi: Bilgilerin doğruluğunu, yanlışlığını, eksikliğini veya fazlalığını tespit edebilmektir.
- III. Değerlendirme becerisi: Bilgilerin özünü, önemini, nitelik ve niceliğini belirleyebilmektir.
- IV. Üretim becerisi: Bilgi ve mesajları kişinin kendisinin üretebilmesi ve yayabilmesidir.

Bu metne göre, numaralanmış medya okuryazarlığı becerilerine örnek olabilecek davranışlar aşağıdakilerin hangisinde doğru eşleştirilmiştir?

- A)

I.	İnternette bir konuyla ilgili araştırma yapmak
II.	Bir haberde yer alan fotoğraftaki hileleri saptamak
III.	Yeni bir haber sitesi kurmak
IV.	Bazı televizyon programlarının çocuklar üzerindeki etkisi hakkında yorum yapmak
- B)

I.	İnternette bir konuyla ilgili araştırma yapmak
II.	Bir haberde yer alan fotoğraftaki hileleri saptamak
III.	Bazı televizyon programlarının çocuklar üzerindeki etkisi hakkında yorum yapmak
IV.	Yeni bir haber sitesi kurmak
- C)

I.	Bir haberde yer alan fotoğraftaki hileleri saptamak
II.	İnternette bir konuyla ilgili araştırma yapmak
III.	Bazı televizyon programlarının çocuklar üzerindeki etkisi hakkında yorum yapmak
IV.	Yeni bir haber sitesi kurmak
- D)

I.	Bir haberde yer alan fotoğraftaki hileleri saptamak
II.	İnternette bir konuyla ilgili araştırma yapmak
III.	Yeni bir haber sitesi kurmak
IV.	Bazı televizyon programlarının çocuklar üzerindeki etkisi hakkında yorum yapmak

7 ve 8. soruları aşağıdaki metne göre cevaplayınız.

Bir pazarda A, B, C, D, E, F ve G olarak adlandırılan tezgâhlar karışık olarak yerleştirilmiştir. Bu tezgâhların bazılarında meyve, bazılarında sebze satılmaktadır. Tezgâhların sırasına ve bu tezgâhlarda satılan ürünlerin türüne ilişkin bilinenler şunlardır:

- Aynı tür ürün satan üç veya daha fazla tezgâh yan yana gelmemiştir.
- 2 ve 3. sıradaki tezgâhlarda meyve satılmaktadır.
- B ve D tezgâhlarında sebze bulunmaktadır.
- 4. sırada E tezgâhı vardır.
- F tezgâhından hemen önce C, hemen sonra B tezgâhı vardır.
- A tezgâhı, G tezgâhından daha öndeki bir sırada yer almaktadır.

7. Buna göre tezgâhların dizilimi aşağıdakilerin hangisinde doğru verilmiştir?

A)

1	2	3	4	5	6	7
C	F	B	E	A	G	D

B)

1	2	3	4	5	6	7
D	A	G	E	B	F	C

C)

1	2	3	4	5	6	7
D	A	G	E	C	F	B

D)

1	2	3	4	5	6	7
C	B	F	E	A	D	G

8. 5. tezgâhta sebze olduğu bilindiğine göre aşağıdaki tezgâhların hangilerinde kesinlikle farklı türde ürün satılmaktadır?

- A) A - G B) G - F C) A - F D) B - F

9. 12'nci yüzyılda yapılan Harmantepe Kalesi, temizlik ve kazı çalışmalarının ardından restore edilecek. Sakarya Nehri'nin Batı yakası boyunca uzanan, Kültür ve Tabiat Varlıklarını Koruma Kurulu tarafından kültür varlığı olarak tescil edilen kale, kent merkezine 17 km mesafede bulunuyor.

Bu metinde aşağıdakilerden hangisiyle ilgili yazım yanlışı yapılmıştır?

- A) Yer adlarında ilk isimden sonra gelen ve deniz, göl, dağ, boğaz vb. tür bildiren ikinci isimler büyük harfle başlar.
B) Sıra sayıları ekle gösterildiklerinde rakamdan sonra sadece kesme işareti ve ek yazılır, ayrıca nokta konmaz.
C) Düşünce, hayat tarzı vb. anlamlar bildirdiğinde doğu ve batı sözlerinin ilk harfleri büyük yazılır ancak bu sözler yön bildirdiğinde küçük yazılır.
D) Saray, köşk, han, köprü, anıt vb. yapı adlarının bütün kelimeleri büyük harfle başlar.



10. Düşüncelerimiz; beynin 86 milyar, dünya nüfusunun yaklaşık on katı, nöron ağından çıkan elektrik sinyallerinin sonucu oluşur. Bu konuda yapılan son çalışmalar, düşüncenin altında yatan elektriksel sinyalleri daha iyi anlamamızı sağlıyor. Basit bir düşünce bile beyinde şaşırtıcı miktarda etkinliğin ortaya çıkmasını sağlıyor. Beynin farklı bölgeleri ateşleniyor, belli bölgelere sinyal gönderiliyor, bu sinyal trafiği de belirli merkezlerden yönetiliyor.

Bu metinde virgülün aşağıdaki işlevlerinden hangisinin örneği yoktur?

- A) Birbiri ardınca sıralanmış cümleleri ayırmak için konur.
B) Uzun cümlelerde yüklemden uzak düşmüş olan özneyi belirtmek için konur.
C) Cümle içinde ara sözcükleri veya ara cümleleri ayırmak için ara sözcüklerin veya ara cümlelerin başına ve sonuna konur.
D) Eş görevli sözcük ve sözcük gruplarını ayırmak için konur.

CEVAP ANAHTARI

TÜRKÇE

1. A
2. D
3. B
4. C
5. A
6. B
7. C
8. D
9. C
10. D

T.C. İNKILAP TARİHİ VE ATATÜRKÇÜLÜK

1. C
2. B
3. A
4. A
5. B

DİN KÜLTÜRÜ VE AHLAK BİLGİSİ

1. C
2. A
3. D
4. D
5. B

YABANCI DİL (İNGİLİZCE)

1. C
2. B
3. D
4. D
5. C



T.C.
MİLLÎ EĞİTİM BAKANLIĞI
ÖLÇME, DEĞERLENDİRME VE SINAV HİZMETLERİ GENEL MÜDÜRLÜĞÜ

2021-2022 EĞİTİM VE ÖĞRETİM YILI
Sınavla Öğrenci Alacak Ortaöğretim Kurumlarına
İlişkin Merkezî Sınava Yönelik
Ocak Ayı Örnek Soruları
(SÖZEL BÖLÜM)

Bu kitapçıkta toplam 25 soru bulunmaktadır.

- Türkçe : 10 soru
- T. C. İnkılap Tarihi ve Atatürkçülük : 5 soru
- Din Kültürü ve Ahlak Bilgisi : 5 soru
- İngilizce : 5 soru

Türkçe Örnek Soruları

1. Bu sabah erkenden kalktı. Her zamanki gibi elini yüzünü yıkayıp saçlarını taradı. Güneş, yeni yeni gösteriyordu yüzünü. Pencereyi açıp derin bir nefes aldı. Güneşin doğuşuyla aydınlanan gökyüzünü ve ufku taradı uzun bir süre. Sonra bahçenin ayırık otları ve taşlarla dolu toprağına takıldı gözleri. Dışarı çıkarak kullanacağı malzemeleri hazırladı özenle. Bahçenin bir bölümünü dikkatlice belledi. Toprağı tırmıkla tarayıp taşları ve otları ayırdı.

Bu parçada "taramak" sözcüğü aşağıdaki anlamlarından hangisini karşılayacak şekilde kullanılmamıştır?

- A) Bir şeyin tellerini birbirinden ayırıp karışıklığını gidermek
- B) Kafasından geçirmek, belli belirsiz düşünmek
- C) Bir şeyin içindeki gereksiz maddeleri ayıklamak
- D) Dikkatle bakmak, süzmek








2. I. Amazon Ormanları; sera etkisi oluşturup, Dünya'yı ısıtan karbondioksidi atmosferden emerek havaya oksijen salması ve gezegenimizin soğumasına yardımcı olmasıyla bilinmektedir.
- II. Önemli bilimsel dergilerin birinde yayımlanan yeni bir araştırma Amazon Ormanları'nın bir bölümünün, emdiği karbondioksitten fazlasını atmosfere yaydığını gösteriyor.

II numaralı cümleyle ilgili aşağıdakilerden hangisi söylenebilir?

- A) I. cümlede ifade edilenlerle çelişen bir durumdan söz edilmektedir.
- B) I. cümlede değinilen düşüncenin bilimsel olarak kanıtlandığı belirtilmektedir.
- C) I. cümlede anlatılan durumun sebep olduğu bir olumsuzluktan bahsedilmektedir.
- D) I. cümlede vurgulanan durumu örneklendiren bir araştırmanın sonucu verilmektedir.

3. Aşağıdaki tabloda bazı bitkilerden en yüksek verimin alınabilmesi için onların hangi bitkilerden önce veya sonra ekilmesi gerektiğiyle ilgili bilgi verilmiştir.

ÖN BİTKİ	EKİMİ YAPILACAK BİTKİ	ART BİTKİ
Patates, havuç, karnabahar, lahana	Ispanak 	Domates, patates, soğan, bamyası
Soğan, patates, bezelye, salatalık	Lahana 	Domates, fasulye, turp, pırasa
Maydanoz, ıspanak, soğan, patates	Fasulye 	Lahana, biber, patlıcan, soğan
Domates, patates, soğan, ıspanak	Kavun 	Salatalık, lahana, soğan, dereotu
Lahana, kereviz, bezelye, nohut	Domates 	Ispanak, havuç, fasulye, bakla
Kabak, nohut, fasulye, salatalık	Biber 	Pırasa, turp, sarımsak, bakla

Not: Ekimi yapılacak bitkiden önce ve sonra aynı toprağa ekilecek bitkiler, ön ve art bitki olarak isimlendirilmiştir.

Bu bilgilere göre aşağıdakilerden hangisi yanlıştır?

- A) Ürünlerinden yüksek verim elde etmek isteyen biri, lahanadan önce salatalık, lahanayı topladıktan sonra ise pırasa ekimi yapabilir.
- B) Ispanak, kavun, fasulye ekiminden önce patates; bunlar toplandıktan sonra ise soğan ekilmesi verimi yükseltecektir.
- C) Domates ekimi yapacak birinin art bitki olarak ıspanağı, ön bitki olarak ise bezelyeyi tercih etmesi verimi artıracaktır.
- D) Biber ekecek biri; yüksek verim almak için ön bitki olarak kereviz, art bitki olarak bamyası ve havuç tercih etmelidir.

























4. 1970'li yıllarda bir deterjan markasının ürün müdürü, satışları artırmak için yeni bir pazarlama yöntemi geliştirdi. O yıllara kadar uygulanan yöntem, bütün deterjan paketlerinin içine hediye olarak bir çay kaşığının konulmasıydı. Ürün müdürünün geliştirdiği yeni yöntemde ise her pakete basit, ucuz ama ihtiyacı karşılayan bir hediye konulacak ve bu hediyeler birbirinden farklı olacaktı. Çamaşır mandalı, saç tokası, anahtarlık gibi hediyeler hazırlandı ve kapalı paketlere birer tane konuldu. Paketlerin üzerine "Her pakette bir hediye, bizde boş yok!" yazıldı. Bunun üzerine müşteriler paketlerin içinden çıkacak ürünü öğrenmek istedikleri için deterjana büyük ilgi gösterdi ve satışlar kısa sürede on kat arttı.

Bu metne göre söz konusu kampanyanın başarılı olmasının asıl nedeni aşağıdakilerden hangisidir?

- A) Kampanyanın kısa ve öz bir cümleyle duyurulması
- B) Hediyelerin toplumun her kesimine hitap etmesi
- C) Üründen çıkacak hediye merak edilmesi
- D) Tüm paketlere hediye konulması




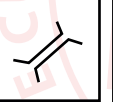
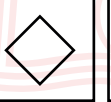
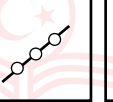


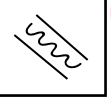


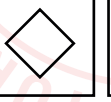
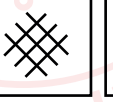

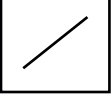
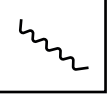


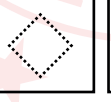
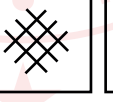




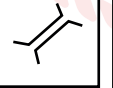
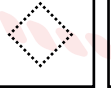
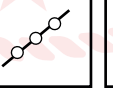

5. Oryantiring, harita yardımı ile yön bulmayı içeren bir spordur. Sporcular yarışma bölgesinin haritasında sembollerle belirtilmiş hedeflere sırasıyla ve en kısa sürede ulaşmaya çalışır.

Aşağıda oryantiring haritasında bulunan bazı semboller verilmiştir.

	Yağmur Suyu Yarığı		Nehir		Yol
	Boyun		Hendek		Orman Yolu
	Karınca Yuvası		Dar Bataklık		Köprü
	Kaya		Su Tankı		Beton Duvar
	Geçit		Açık Alan		Çit
	Küçük Çukur		Yarı Açık Alan		Geçiş Noktası
	Anıt		Sık Çalılık		Boru Hattı
	Ağaçlık		Çit Çalılık		Bina Geçışı

Bir oryantiring yarışmasının talimatlarına göre yarışmacı, orman yolunu takip ederek hendeği geçecek ve karşılaştığı küçük çukurlara dikkat ederek geçide ulaşacaktır. Geçidin sonunda karşılarına çıkacak açık alanda sık çalılıkların bulunduğu yöne doğru ilerleyip anıta giderek yarışmayı tamamlayacaktır.

Buna göre talimatları doğru şekilde yerine getiren yarışmacı, haritasında sırasıyla aşağıdaki sembollerin hangilerini takip etmiştir?

- A)       
- B)       
- C)       
- D)       

- 6.
- Karasal tuzlu sulardan lityum elde edilirken önce, havuzlarda biriktirilen tuzlu suyun açık havada güneş enerjisi ile kendi kendine buharlaşması beklenir. Daha sonra çökteldaki lityum karbonat ayrılır. Ancak tuzlu suyun içinde yüksek oranda magnezyum bulunması ayırıştırma sürecinin verimini düşürür ve maliyeti artırır. Bu nedenle karasal tuzlu sulardan lityum çıkarılması için magnezyum/lityum oranının en çok 6/1 olması gerekir.
 - Türkiye'nin farklı bölgelerinde lityum kaynakları bulunuyor. Ancak bunlar ekonomik değeri olan kaynaklar değil. Örneğin Tuz Gölü'nde bir litre tuzlu suda 325 miligram lityum bulunuyor fakat yüksek oranda magnezyum içermesi nedeniyle Tuz Gölü'nden lityum elde edilmesi hayli güç.
 - Eti Maden İşletmeleri Genel Müdürlüğü (Eti Maden) bor madeninin işlendiği fabrikalarda ortaya çıkan sıvı atıklardan geri dönüşüm yöntemiyle lityum elde edilmesi için bir teknik geliştirdi. Eti Maden tarafından geliştirilen lityum karbonat üretim tekniğiyle sıvı atığın yaklaşık %90'ı geri dönüştürülüyor. Bu sayede atık miktarında ciddi bir azalma da sağlanıyor.

Aşağıdaki sorulardan hangisi bu parçalardan herhangi biriyle ilişkilendirilemez?

- A) Lityum hangi alanlarda kullanılır?
B) Lityum nasıl elde edilir?
C) Hangi sıvı atıklardan lityum üretilebilir?
D) Türkiye'de lityum var mıdır?



7. Stres, vücudun her türlü uyarana yanıt verme yoludur. Beyin, tehlike altında olduğunu hissettiğinde vücudu harekete geçiren stres hormonu salgılar. Bu hormonun etkisiyle kalp atışları hızlanır, kan basıncı yükselir ve duyarlar keskinleşir. Böylece odaklanma hızı ve dayanıklılık artar. "Savaş ya da kaç" tepkisi olarak bilinen bu durum, vücudu korumanın yoludur. Ancak stres hormonunun salgılanması olumlu bir durum gibi görünse de bunun süreklilik arz etmesi vücuda zarar verir. Gözümüze güneş geldiği için kaşlarımızı çattığımızda bile beynimizin üzgün olduğumuzu sanarak stres hormonu salgıladığını düşünürsek stresi kontrol etmenin ruh ve beden sağlığımız için ne kadar önemli olduğunu anlayabiliriz.

Bu metinden "stres hormonu" ile ilgili aşağıdakilerden hangisi çıkarılamaz?

- A) Stres dışındaki durumlarda da salgılanabilmektedir.
B) Vücuda faydası ve zararı, salgılanma sıklığına göre değişmektedir.
C) Vücudun, tehlikelere karşı kendisini savunması için salgılanır.
D) Stres gerektirmeyen durumlarda salgılanması vücut için faydalıdır.

8. Aşağıda aralık ayının takvimi ve bir tiyatrodaki bu ayın bazı günlerinde sahnelenecek oyunlar verilmiştir.

Pt	Sa	Ça	Pe	Cu	Ct	Pa
		1	2	3	4	5
6	7	8	9	10	11	12
13	14	15	16	17	18	19
20	21	22	23	24	25	26
27	28	29	30	31		

- 8 Aralık – Cimri
- 11 Aralık – Ben Anadolu
- 14 Aralık – Köşebaşı
- 18 Aralık – Cimri
- 22 Aralık – Hamlet
- 26 Aralık – Köşebaşı

Bu oyunlara giden Ayşe, Burak, Cengiz, Defne, Erdem ve Ferda adlı kişilerle ilgili bilinenler şunlardır:

- Her bir kişi, farklı tarihteki bir oyuna gitmiştir.
- Ayşe ve Burak aynı oyuna gitmiştir.
- Defne; Erdem ile aynı hafta, Ferda'dan ise bir önceki hafta tiyatroya gitmiştir.

Buna göre aşağıdaki kişilerden hangilerinin gittiği oyun ve tarihi kesin olarak bilinir?

- A) Ayşe - Defne
- B) Burak - Erdem
- C) Defne - Burak
- D) Cengiz - Ferda

9. Su, bireylerin en temel gereksinimi olması ve başlıca ekonomik faaliyetlerde kullanılması nedeniyle insanlık için vazgeçilmez bir kaynaktır. Bu sebeple 1993 yılında Birleşmiş Milletler, 22 Mart'ı "Dünya Su Günü" ilan etmiştir.

I

II

Bugünün amacı, tatlı su kaynaklarının önemine dikkat çekmek ve küresel su kriziyle mücadele etmektir. Her yıl

III

farklı bir temanın ele alındığı günün 2021 yılındaki teması "Suyun Değeri" olarak belirlenmiştir.

IV

Bu parçada numaralanmış bölümlerin hangisinde yazım yanlışı yapılmıştır?

- A) I
- B) II
- C) III
- D) IV

10. Özne, yüklemde bildirilen yargıyı gerçekleştiren veya o durumda bulunan ögedir. Yükleme sorulan “ne, kim” soruları cümlede özneyi buldurur.

Bu açıklamadan hareketle,

(I) İnsanoğlu yaklaşık 10 bin yıl önce yerleşik hayata geçmeye başladı. (II) Tarımsal üretim faaliyetleri bunun en önemli sebebiydi. (III) İklim koşullarının aşırı değişiklik göstermemesi insanların tarım yapabilmelerini kolaylaştırıyordu. (IV) Düzenli tarımsal üretim sayesinde insan nüfusu bugünkü seviyesine ulaştı.

metninde numaralanmış cümlelerin hangisinde altı çizili bölüm özne değildir?

A) I

B) II

C) III

D) IV



CEVAP ANAHTARI

TÜRKÇE

1. B
2. A
3. D
4. C
5. B
6. A
7. D
8. D
9. C
10. C

T.C. İNKILAP TARİHİ VE ATATÜRKÇÜLÜK

1. A
2. C
3. B
4. D
5. D

DİN KÜLTÜRÜ VE AHLAK BİLGİSİ

1. A
2. D
3. C
4. C
5. B

YABANCI DİL (İNGİLİZCE)

1. C
2. D
3. D
4. A
5. B



T.C.
MİLLÎ EĞİTİM BAKANLIĞI
ÖLÇME, DEĞERLENDİRME VE SINAV HİZMETLERİ GENEL MÜDÜRLÜĞÜ

2021-2022 EĞİTİM VE ÖĞRETİM YILI
Sınavla Öğrenci Alacak Ortaöğretim Kurumlarına
İlişkin Merkezî Sınava Yönelik
Şubat Ayı Örnek Soruları
(SÖZEL BÖLÜM)

Bu kitapçıkta toplam 25 soru bulunmaktadır.

- Türkçe : 10 soru
- T. C. İnkılap Tarihi ve Atatürkçülük : 5 soru
- Din Kültürü ve Ahlak Bilgisi : 5 soru
- İngilizce : 5 soru

Türkçe Örnek Soruları

1. Model: Örnek olmaya değer kimse veya şey.

İdeal: Düşüncenin tasarlayabileceği bütün üstün nitelikleri kendinde toplayan.

Uyum: Toplumsal çevreye veya bir duruma uyuma.

Aşağıdakilerin hangisinde “model, ideal, uyum” sözcüklerinin tümü, verilen anlamlarını karşılayacak şekilde kullanılmıştır?

- A) Yazarın son kitabı, iş dünyasının parlayan yıldızları için model olabilecek insanları anlatıyor. İdealler çerçevesinde gelişen hayatları, yazarın birlikte uyum içinde çalıştığı yol arkadaşlarını, onların umut, inanç, özveri ve başarıyla taşınmış öykülerini içeriyor.
- B) Mevlâna; büyükmeye karşı tevazunun, düşmanlığa karşı dostluğun, ön yargıya karşı hoşgörünün, cimriliğe karşı cömertliğin, asiliğe karşı uyumun tesis edildiği hikâye ve beyitleriyle ideal insan modelini oluşturmaya gayret etmiştir.
- C) İdeallerini gerçekleştirmek için yaşayan insan deyince aklımıza saf, temiz, uyum sahibi, sevdiği işi yapan, mutlu bir insan modeli gelir. Hedefleri doğrultusunda hareket eden bu insanların sayısı az olsa da onlar toplumda daima dikkat çeker.
- D) Sonsuz bir sessizlik ve uyum sarmıştı yaylayı. Sanki bütün canlılar bu sessizliğe ayak uydurmuştu. Dinlenmek için en ideal yer burası, diye düşündü Arif. Tam o sırada Muhtar, eski model arabasıyla sessizliği bozarak tepeyi aştı.

2. Uluslararası Türk Kültürü Teşkilatı, 2020 yılı Türk dünyası kültür başkenti olan Özbekistan'ın Hiva şehrinde gerçekleştirdiği 38. Dönem Toplantısı'nda Bursa'yı 2022 Türk dünyası kültür başkenti olarak seçti.







Bu cümle aşağıdakilerin hangisinde verilenlerin birleştirilmesiyle oluşmuştur?

- A) Özbekistan'ın Hiva şehri, 2020 yılı Türk dünyası kültür başkentidir.
Uluslararası Türk Kültürü Teşkilatı 38. Dönem Toplantısı'nı Özbekistan'ın Hiva şehrinde gerçekleştirdi.
Uluslararası Türk Kültürü Teşkilatı, 38. Dönem Toplantısı'nda 2022 yılı Türk dünyası kültür başkenti olarak Bursa'yı seçti.
- B) Hiva şehri Özbekistan'ın kültür başkentidir.
Uluslararası Türk Kültürü Teşkilatı yaptığı toplantıda 2022 yılı için 38. kültür başkenti olarak Bursa'yı seçti.
Uluslararası Türk Kültürü Teşkilatı Dönem Toplantısı 2020 yılında Hiva şehrinde gerçekleştirdi.
- C) 2022 yılı Türk dünyası kültür başkenti Bursa oldu.
Uluslararası Türk Kültürü Teşkilatı, 2020 yılındaki toplantıda Özbekistan'ın Hiva şehrini kültür başkenti seçti.
Uluslararası Türk Kültürü Teşkilatı 38. Dönem Toplantısı'nı Hiva şehrinde yaptı.
- D) 2020 yılı Türk dünyası kültür başkenti, Özbekistan'ın Hiva şehridir.
Uluslararası Türk Kültürü Teşkilatı, 38. Dönem Toplantısı'nı Özbekistan'ın Hiva şehrinde gerçekleştirdi.
Uluslararası Türk Kültürü Teşkilatı, Türk dünyası kültür başkentini seçmek için yapacağı dönem toplantısını 2022 yılında Bursa'da gerçekleştirecek.





































3. Aşağıda bazı alanlardaki biyoçeşitlilik üzerinde son 100 yılda etkili olan faktörler ve bu faktörlerin günümüzdeki eğilimleri ile ilgili bilgiler verilmiştir.

- Ilıman ormanlardaki biyoçeşitlilik üzerinde habitat (bir canlının yaşadığı ve geliştiği yer) değişiminin etkisi yüksek, iklim değişiminin etkisi düşük, kirlenmenin etkisi orta düzeydedir. Ancak günümüzde habitat değişiminin etkisi azalmakta, iklim değişimi ve kirlenmenin etkisi artmaktadır.
- Çöllerdeki biyoçeşitlilik üzerinde habitat değişimi ve kirlenmenin etkisi düşük, iklim değişiminin etkisi orta düzeydedir. Günümüzde habitat değişiminin etkisi aynı şekilde devam ederken iklim değişimi ve kirlenmenin etkisi artmaktadır.
- Akarsu ve göllerdeki biyoçeşitlilik üzerinde habitat değişimi ve kirlenmenin etkisi yüksek, iklim değişiminin etkisi düşüktür. Günümüzde bu üç faktörün de etkisi artmaktadır.

Bu bilgilerden hareketle biyoçeşitlilik üzerinde son 100 yılda etkisi olan faktörler ve bunların günümüzdeki eğilimlerini göstermek için bir tablo oluşturulacak ve bu tabloda aşağıdaki semboller kullanılacaktır.

Biyoçeşitlilik Üzerinde Faktörlerin Etkisi			Etkili Faktörlerin Günümüzdeki Eğilimleri		
					
Düşük	Orta	Yüksek	Etkinin azalması	Etkinin aynı şekilde devam etmesi	Etkinin artması

Bu metne göre aşağıdaki tablolardan hangisi doğru oluşturulmuştur?

	Habitat Değişimi	İklim Değişimi	Kirlenme		Habitat Değişimi	İklim Değişimi	Kirlenme
A) Ilıman Ormanlar				B) Ilıman Ormanlar			
Çöller				Çöller			
Akarsu ve Göller				Akarsu ve Göller			
C) Ilıman Ormanlar				D) Ilıman Ormanlar			
Çöller				Çöller			
Akarsu ve Göller				Akarsu ve Göller			

4. Ben bir kitap kapağı tasarımına başladığımda ilk iş olarak kitabı okuyorum. Bir taraftan da yazarla kitabı hakkında yüz yüze görüşüyorum, yayına hazırlayan arkadaşımınla kitabın içeriği ve olası kapak görselleri konusunda tartışıyor ve çalışmaya başlıyorum. Bu içerik çalışması dışında tabii ki kapak kâğıdının kalitesi ve kapakta oluşturduğum figürleri süsleme tarzımın da bana bu başarıyı getirdiğini düşünüyorum.

Bu metin aşağıdaki sorulardan hangisine karşılık söylenmiş olabilir?

- Kitap kapaklarının, kitabın içeriğiyle ilgili olması gerektiğini düşünüyor musunuz?
- Kitap kapağı tasarımlarına ödül verilmesiyle ilgili neler söylemek istersiniz?
- Yılın en iyi kitap kapağı tasarımcısı seçilmenizi neye bağlıyorsunuz?
- Kitapların çok satılmasında kapak tasarımının etkisi var mıdır?

5. Bir forumda aynı başlığın altına yazılan üç yazı şu şekildedir:

- Yakutistan Özerk Cumhuriyeti'nin başkenti olan Yakutsk, dünyanın en soğuk kenti. Kış aylarında burada yaşamak oldukça zor, sadece insanlar için değil yaban hayvanları için de öyle. Yıl boyunca ortalama sıcaklık eksi 7,5 santigrat derece olarak hesaplanmış. Kış aylarında sıcaklık, eksi 65 santigrat dereceye kadar düşüyor.
- Balıkların içinde hız şampiyonu yelken balığıdır. Bu balık, sırtındaki mavimsi yüzgecini avlanırken açar ve avlandığı sırada oldukça yüksek bir hıza ulaşır. Saatte 110 kilometre süratle yüzebilen yelken balığına diğer balıkların yetişebilmeleri mümkün değil.
- Sahil sekoyası adlı türe ait 116 metrelik bir ağaç, bugüne kadar ölçülenler arasında en uzununu. Neredeyse 35 katlı bir gökdelen kadar yüksek olan bu ağaç ABD'deki bir millî parkta bulunuyor.

Bu forumun başlığı aşağıdakilerden hangisi olabilir?

- A) Dünyanın "En"leri
- B) Rekor Kıran Canlılar
- C) Doğanın Gizemleri
- D) Sıra Dışı Mekânlar



6. Edebiyatımızın üretken şairlerinden biri olan ve "Türkçem benim ses bayrağım." dizesiyle de tanınan Fazıl Hüsni Dağlarca çeşitli konularda şiirler yazmış, özellikle Türk tarihinin destanlaşmış birçok olayını şiirlerine taşımıştır. Bu alandaki en tanınmış eseri "Üç Şehitler Destanı"dır.

Bu metnin anlatımıyla ilgili,

- I. Örnelemeye başvurulmuştur.
- II. Tanık göstermeden yararlanılmıştır.
- III. Karşılaştırma yapılmıştır.

yargılarından hangileri doğrudur?

- A) Yalnız I
- B) I ve III
- C) II ve III
- D) I, II ve III

7. Alışveriş sitelerinden birinde yer alan bir çantayla ilgili müşteri yorumları şunlardır:

Fatma

Görünüşünü ve kalitesini çok beğendim. Çocuğumun eşyalarını yerleştirmek için almıştım fakat içi beklediğim kadar geniş değil. Kumaşı kalın olmadığı için astarı olsaydı daha kullanışlı olurdu diye düşünüyorum.

Beğen Beğenme Cevapla

Ayşe

Gayet güzel ve şık, ne çok büyük ne de küçük. Lisede okuyan kızım için aldım. Kumaşı ince, beş yıl önce aldığımız aynı marka çanta da öyleydi ama hâlâ sağlam. Rengini de çok beğendim.

Beğen Beğenme Cevapla

Hatice

Çanta kısa sürede elime ulaştı. İçi oldukça geniş. Aldığımdan bu yana makinede iki kez yıkamama rağmen herhangi bir yıpranma olmadı.

Beğen Beğenme Cevapla

Elif

Oğlum için aldım, çok beğendi. İçine her boy kitap sığıyor, okul çantası olarak da kullanılabilir. Renk seçeneği fazla olsa daha iyi olurdu. Hızlı teslimat için ayrıca teşekkür ederim.

Beğen Beğenme Cevapla

Bu çantayla ilgili yorumlarda aşağıdakilerden hangisine bütün müşteriler değinmiştir?

- A) Kumaşına B) Teslimat süresine C) Rengine D) Boyutuna

8. Pul kanatlılar türündeki kelebeklerin kanatlarında kiremit gibi dizilmiş pullar bulunur. Milimetrenin onda biri boyutundaki bu küçük pullar kanattan kolaylıkla kopabilir. Pulların yapısında bulunan mikroskobik ölçekteki karmaşık çıkıntı ve çukur benzeri yapılar, ışığı kırarak kanatların eşsiz görünümüne katkıda bulunur. Kelebeklerin korunmasında ve uçuş performansında etkili olan pulların aynı türün üyeleri arasındaki sosyal ilişkileri düzenleyen kimyasal maddeler salgıladığı tespit edilmiştir.

Bu metinde kelebeklerin kanatlarındaki pullarla ilgili aşağıdakilerden hangisine değinilmemiştir?

- A) Nasıl görüldüğüne
B) Kelebekleri nasıl koruduğuna
C) Hangi kelebeklerde bulunduğu
D) Neden kimyasal madde salgıladığına

9. Ahmet, Caner, Kağan, Nihat adlı dört sporcunun kendi aralarında yaptıkları müsabakalar aşağıda sıralanmıştır.

1. Müsabaka → Ahmet-Nihat
2. Müsabaka → Ahmet-Caner
3. Müsabaka → Caner-Nihat
4. Müsabaka → Ahmet-Kağan
5. Müsabaka → Caner-Kağan
6. Müsabaka → Kağan-Nihat

Bu müsabakaların kazanan ve kaybedenleriyle ilgili bilinenler şunlardır:

- 1. müsabakayı kazanan sporcu toplam iki galibiyet almıştır.
- 2. müsabakayı kazanan sporcu diğer müsabakaları kaybetmiştir.
- 3. müsabakayı Caner, 5. müsabakayı Kağan kazanmıştır.

Buna göre aşağıdaki tabloların hangisinde sporcuların galibiyet sayıları doğru gösterilmiştir?

A)

Sporcu	Galibiyet
Ahmet	1
Caner	2
Kağan	1
Nihat	2

B)

Sporcu	Galibiyet
Ahmet	2
Caner	1
Kağan	2
Nihat	1

C)

Sporcu	Galibiyet
Ahmet	1
Caner	1
Kağan	2
Nihat	2

D)

Sporcu	Galibiyet
Ahmet	2
Caner	2
Kağan	1
Nihat	1

10. Şişli; kültürün, sanatın, farklı damak lezzetlerinin buluşma noktasıdır. Şişli deyince pazar günleri gidip gezebileceğiniz antika pazarından da mutlaka bahsetmeliyiz. Büyükannelerimizin evinden çıkmış gibi görünen, özenle seçilmiş parçalar var burada: plaklar, fotoğraf makineleri, daktilolar, saatler, tabaklar, çay takımları... Eski dergi ve gazetelerin sizi gülümsetecek reklamlarına da mutlaka göz atmalısınız.

Bu metinde aşağıdaki noktalama kurallarından hangisinin örneği yoktur?

- A) Alıntılanan bir metnin alınmayan bölümlerinin yerine üç nokta konur.
- B) İki den fazla eş değer ögesi arasında virgül bulunan cümlelerde öznenen sonra noktalı virgül kullanılabilir.
- C) Kendisiyle ilgili örnek verilecek cümlelerin sonuna iki nokta konur.
- D) Birbiri ardınca sıralanan eş görevli sözcük ve sözcük gruplarının arasında virgül kullanılır.

CEVAP ANAHTARI

TÜRKÇE

1. B
2. A
3. D
4. C
5. A
6. B
7. D
8. B
9. C
10. A

T.C. İNKILAP TARİHİ VE ATATÜRKÇÜLÜK

1. A
2. B
3. C
4. B
5. D

DİN KÜLTÜRÜ VE AHLAK BİLGİSİ

1. D
2. C
3. B
4. D
5. A

YABANCI DİL (İNGİLİZCE)

1. B
2. D
3. D
4. C
5. D



T.C.
MİLLÎ EĞİTİM BAKANLIĞI
ÖLÇME, DEĞERLENDİRME VE SINAV HİZMETLERİ GENEL MÜDÜRLÜĞÜ

2021-2022 EĞİTİM VE ÖĞRETİM YILI
Sınavla Öğrenci Alacak Ortaöğretim Kurumlarına
İlişkin Merkezî Sınava Yönelik
Mart Ayı Örnek Soruları
(SÖZEL BÖLÜM)

Bu kitapçıkta toplam 25 soru bulunmaktadır.

- Türkçe : 10 soru
- T. C. İnkılap Tarihi ve Atatürkçülük : 5 soru
- Din Kültürü ve Ahlak Bilgisi : 5 soru
- İngilizce : 5 soru

Türkçe Örnek Soruları

1. Yazarın son romanını okuyanlardan en sık duyduğumuz cümle “Üşüdük!” olmuştur. Öyle ki yazar, romanını kısa dair her türden ayrıntıyla örmüş; romanı okurken soğuk, buz, kar içimize işlemiştir (çok etkilenmek). Yazarın kalem kuvvetinin (yazma yeteneği) bunda önemli bir payı var. Tasvirleri, bildiğimiz tasvirlerle hiç benzemiyor. Doğanın canlı bir varlık olarak yer aldığını hissediyoruz iki ciltten oluşan bu romanda. Böylesine geniş hacimli (içeriği yoğun olan) romanlarda yazarın, tekrara düştüğünü (tekdüzeleşmek) okura hissettirmeden tasvir yapabilmesi usta işi bir incelik gerektiriyor.

IV

Bu parçada numaralanmış sözlerden hangisinin anlamı yay ayraç içinde verilen açıklamayla uyuşmamaktadır?

- A) I B) II C) III D) IV

2. Bir kitabın veya derginin başında bulunan, konu başlıklarının liste şeklinde sayfa numaralarıyla gösterildiği bölüme “İçindekiler” denir. İçindekiler bölümünde bütün başlıklar aynı biçim ve konumda dizilebildiği gibi her bir başlık düzeyi farklı da dizilebilmektedir. Aşağıda bir kitabın “İçindekiler” bölümünün düzenlenmesiyle ilgili kurallar verilmiştir.

- 1. düzey bölüm başlıklarında (genel başlıklar) sözcükler, kalın-koyu ve her birinin ilk harfi büyük olacak şekilde yazılmalıdır. Genel başlıklar sırasıyla 1., 2. şeklinde numaralandırılmalıdır.
- 2. düzey bölüm başlıklarında (alt başlıklar) sözcüklerin ilk harfleri büyük olmalı, sözcükler ince-açık yazılmalı ve genel başlığa göre sağa girintili olmalıdır. Alt başlıklar ait olduğu genel başlığın numarasıyla sıralanır: 1. 1., 1. 2. gibi.
- 3. düzey bölüm başlıklarında (alt başlıkların ayrıntıları) ilk sözcük büyük harfle, diğer sözcükler küçük harfle başlamalı; sözcükler ince-açık ve italik (eğik) yazılmalıdır. Alt başlığa göre sağa girintili olması gereken 3. düzey bölüm başlıkları, ait olduğu alt başlığın numarasıyla sıralanır: 1. 1. 1. gibi.

Aşağıda bir bölümü verilen “İçindekiler” örneklerinden hangisi bu özelliklerin tümüyle örtüşmektedir?

A)

1. Geçmiş Zaman Edipleri1
1.1. Hamdullah Suphi Kimdir?.....11
1.1.1. <i>Hayatı ve Edebî Kişiliği</i>13
1.1.2. <i>Eserleri</i>15
1.2. Halit Ziya Kimdir?.....18
1.2.1. <i>Hayatı ve Edebî Kişiliği</i>21
1.2.2. <i>Eserleri</i>26
2. Ediplerimize Dair Hatıralar36

B)

1. Tiyatro Sanatında Belli Başlı Akımlar1
1.1. Klasisizm Akımı.....4
1.1.1. <i>Klasisizmin öğeleri</i>8
1.1.2. <i>Klasik yazarların yaşama bakışları</i>12
1.1.3. <i>Klasik yazarların nitelikleri</i>18
1.2. Romantizm Akımı22
1.2.1. <i>Romantizmin düşünce yapısı</i>24

C)

1. Halk Hikâyesi1
1.1. Halk Hikâyesi Nedir?.....3
1.2. Halk Hikâyelerinin Özellikleri.....4
1.2.1. <i>Şekil özellikleri</i>4
1.2.2. <i>İçerik özellikleri</i>8
1.3. Halk Hikâyelerinin Kaynakları.....12
1.4. Halk Hikâyelerinin Bölümleri.....15

D)

1. TÜRK DİLİNİN GELİŞİM EVRELERİ1
1.1. İlk Türkçe.....3
1.2. Ana Türkçe.....5
1.3. Eski Türkçe.....6
1.3.1. <i>Göktürk Dönemi'nin özellikleri</i>7
1.3.2. <i>Uygur Dönemi'nin özellikleri</i>11
1.3.3. <i>Karahanlı Dönemi'nin özellikleri</i>13

3. Yüzücülerin giydiği mayoların yapıldığı kumaş, yarışma performanslarını önemli ölçüde etkiler. Köpek balıklarının derisinden esinlenilerek tasarlanan bu kumaşların yüzeyi, köpek balığı derisindeki gibi çıkıntılara sahiptir. Bu mayolar yüzücülerin suda hızlı bir biçimde ilerlemelerini sağlar.

- Binicilik yarışmalarında kullanılan ekipmanlar, binicilerin yaralanma olasılığını azaltmak ve performanslarını artırmak amacıyla kullanılır. Kask bu ekipmanların en önemlisidir. Bilim insanları, kask tasarımlarını sürtünmeyi en aza indirecek biçimde geliştirmeye çalışır. Böylece hızla ilerleyen sporcu, havanın oluşturduğu sürtünme kuvvetine daha az maruz kalarak performansını artırır.
- Sırıkla atlama müsabakalarında sporcu hızlıca koşup, sıırığı kullanarak olabildiğince yükselir ve atlayışını gerçekleştirir. Atlayışta kullanılan sıırık; hafif, dayanıklı ve yay gibi esnek olduğu için sporcunun daha fazla yükselmesine olanak sağlar. Eskiden cam elyafından yapılan sıırıklara günümüzde karbon fiber de eklendi. Böylece sıırıklar hem daha hafif hem de daha esnek hâle geldi.

Bu üç metinden çıkarılabilecek ortak sonuç aşağıdakilerden hangisidir?

- A) Spor müsabakalarında bütün yarışma koşullarının sporcular için eşit olmasına önem verilmektedir.
- B) Sporcular için üretilen malzemeler, teknolojik gelişmeler doğrultusunda yenilenmektedir.
- C) Spor müsabakalarında yaralanmaların en aza indirilmesi için ekipmanlarda dayanıklı malzeme kullanılmaktadır.
- D) Sporcuların yarışmalarda kullandığı malzemeler, performanslarına katkı sağlayacak nitelikte üretilmektedir.

4. O günleri -gençlik günlerimi- düşündükçe tarifi zor duygular yaşıyorum. Kuşdili'ndeki salaş tiyatrodaki satıcıların bağırtıları ve çingirak sesleri arasında perdenin açılıp sahnedeki oyuncunun tuhaflık etmesini bekleyen gerçekten ben miyim? Şehzadebaşı'nda birtakım oyunları izleyip oyuncuların konuşmalarını arkadaşlarına anlatmaya çalışan delikanlı ben miyim? Tiyatro yüzünden hatırını kırdığım hatta kavga ettiğim kişiler bile oldu maalesef. Şimdi, bir akşam tiyatroya gitmek için uykumu feda etmeyi göze alamıyorum.

Bu parçada;

- I. özlem,
- II. pişmanlık,
- III. sitem,
- IV. şaşkınlık

duygularından hangileri belirgindir?

- A) I ve III
- B) I ve IV
- C) II ve III
- D) II ve IV

5. Sanatçı, tüm zamanlara hitap eden eserler oluşturma arzusu içindeki yazarlardan değildir. Geniş zamanlar, ihtişamlı mekânlar ve hayatlardan ziyade olağan şeyleri ve şimdiki yalın bir dille ortaya koyar. Doğal, sade anların koleksiyoncusu gibidir bir bakıma. Sadeliğin -yaygın algının tersine- basitlik anlamına gelmeyip derinlik sağlamanın en tabii yollarından biri olduğuna inanır.

Bu metinde sözü edilen sanatçının aşağıdakilerden hangisini gerçekleştirme beklenir?

- A) Dünyadaki sıra dışı yerlerle ilgili gezi yazısı türünde eserler ortaya koyması
B) Sanatlı anlatımıyla genç şairlere örnek olabilecek şiirlere imza atması
C) İnsanların günlük yaşamda karşılaşabileceği olayları öne çıkaran öyküler yazması
D) Tarihi, geçmişten günümüze bir bütün hâlinde işleyen romanlar kaleme alması

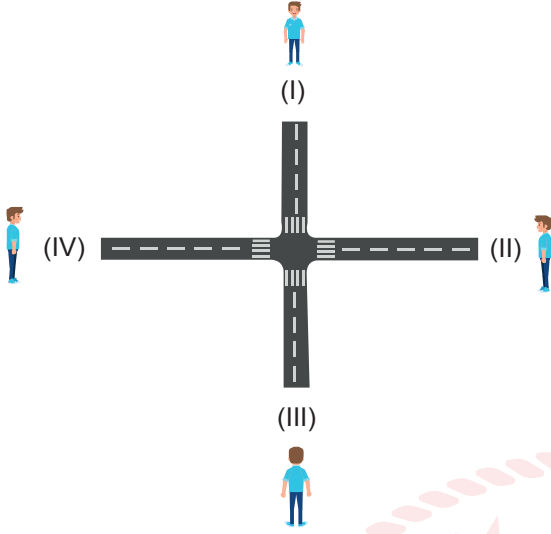
6. İlhan Geçer'in şiir anlayışıyla ilgili bazı bilgiler şunlardır:

- I. Yaşamı olumsuzluklarıyla birlikte kabul etmenin gerekliliğine sıkça vurgu yapmıştır.
II. İç dünyasını kaplayan umutsuzluk, şiirlerinde yer alan mekânları karamsar bir bakış açısıyla ele almasına neden olmuştur.
III. Şiirlerinde arkada kalan hayat, tükenen ve zamanın etkisiyle yok olan bir şey değildir; aksine yeniyi aydınlatan bir olgudur.

Bu bilgileri en iyi örnekleyen dizeler aşağıdakilerin hangisinde verilmiştir?

	<u>I</u>	<u>II</u>	<u>III</u>
A)	Geçmiş zamanlardan kalan aydınlık İpek gecelerine iner sel gibi Yıldızların koynunda erir yalnızlık Yeşil rengi bir darbimesel (atasözü) gibi	Bak sevdiğimiz şarkılar da susmuş Yitirmiş sevincini yıldızlar bile Artık bu şehrin sokakları da bomboş En cömert vaktindeki bahar bile nafile	Hayal ettiklerimiz Yıldızlarda asılı Hayatı buruk lezzetiyle sevdik hasılı
B)	Hayal ettiklerimiz Yıldızlarda asılı Hayatı buruk lezzetiyle sevdik hasılı	Bak sevdiğimiz şarkılar da susmuş Yitirmiş sevincini yıldızlar bile Artık bu şehrin sokakları da bomboş En cömert vaktindeki bahar bile nafile	Geçmiş zamanlardan kalan aydınlık İpek gecelerine iner sel gibi Yıldızların koynunda erir yalnızlık Yeşil rengi bir darbimesel (atasözü) gibi
C)	Geçmiş zamanlardan kalan aydınlık İpek gecelerine iner sel gibi Yıldızların koynunda erir yalnızlık Yeşil rengi bir darbimesel (atasözü) gibi	Hayal ettiklerimiz Yıldızlarda asılı Hayatı buruk lezzetiyle sevdik hasılı	Bak sevdiğimiz şarkılar da susmuş Yitirmiş sevincini yıldızlar bile Artık bu şehrin sokakları da bomboş En cömert vaktindeki bahar bile nafile
D)	Hayal ettiklerimiz Yıldızlarda asılı Hayatı buruk lezzetiyle sevdik hasılı	Geçmiş zamanlardan kalan aydınlık İpek gecelerine iner sel gibi Yıldızların koynunda erir yalnızlık Yeşil rengi bir darbimesel (atasözü) gibi	Bak sevdiğimiz şarkılar da susmuş Yitirmiş sevincini yıldızlar bile Artık bu şehrin sokakları da bomboş En cömert vaktindeki bahar bile nafile

7. Aşağıdaki görselde numaralanmış yerler park, kütüphane, ev ve okulu belirtmektedir.



Ali bu yerlere, verilen yolları takip ederek şu şekilde ulaşmaktadır:

- Evden kütüphaneye gitmek için yön değiştirir.
- Parktan yola çıkıp sola dönünce okula ulaşır.
- Evden okula giderken yön değiştirmez.

Buna göre, numaralanmış konumlarda bulunan yerler aşağıdakilerin hangisi olabilir?

- | | | | |
|--|--|--|--|
| A) I. Kütüphane
II. Park
III. Okul
IV. Ev | B) I. Kütüphane
II. Ev
III. Park
IV. Okul | C) I. Ev
II. Kütüphane
III. Okul
IV. Park | D) I. Ev
II. Park
III. Kütüphane
IV. Okul |
|--|--|--|--|

8. Osmanlı Devleti'nde önemli yazışmaları gerekli yerlere ulaştıran görevlilere posta tatarı adı verilmiştir. İyi yetişmiş, bedenen güçlü ve binicilik konusunda yetenekli kişiler arasından seçilen posta tatarları, Batı tarzı posta teşkilatı kurulana kadar bu hizmeti sağlamıştır. Hükümdar fermanlarının ya da gizli kalması gereken yazışmaların, yerlerine vaktinde ulaşmasını sağladıkları için de mesleklerinin hayati bir işleve sahip olduğu kabul edilmiştir.

Bu metinde "posta tatarları" ile ilgili aşağıdakilerden hangisine değinilmemiştir?

- A) Fiziksel olarak bazı yeterliliklere sahip olmaları gerektiğine
- B) Modern posta teşkilatının kurulmasında rol oynadıklarına
- C) Osmanlı Devleti'nde ne zamana kadar görev yaptıklarına
- D) İcra ettikleri mesleğin çok önemli görüldüğüne

9. Bir cümlede eylemin kim tarafından gerçekleştirildiği belli ise yüklem etken, belli değilse edilgen çatılı fiildir. Örneğin “Çocuklar bahçede koşuyor.” cümlesinde “koş-” eylemi çocuklar tarafından gerçekleştirildiğinden etkendir. “Öğrencilerden törene zamanında gelmeleri istendi.” cümlesinde eylemi yapan kişi belli olmadığından “isten-” fiili edilgendir.

Bu açıklamaya göre aşağıdaki dizelerin hangisinde edilgen fiil kullanılmıştır?

- A) Bu şehirde yağmur altında dolaşılır
Limandaki mavnalara bakıp
- B) Her şey yerli yerinde, havuz başında servi
Bir dolap gıcırıyor uzaklarda durmadan
- C) Tüydün hafif olurum böyle sabahlar
Karşı damda bir güneş parçası
- D) Ey suyun sesinden anlayan bağlar
Ne söyler şu dağa çoban çeşmesi



10. Sanatçı, evrendeki yerini çocuk bakışı ve duyarlığı ile aradığı için tabiata karşı büyük hayranlık besler. Yapıp etmelerinin bilincinde olan, sorumluluk alabilen, aklıyla kalbini birlikte kullanabilen bir insandır. Hayatın sunduğu bütün güzellikleri yaşamak ister, kendini evrenin ve tabiatın parçası olarak görür.

Bu metinde virgülün aşağıdaki işlevlerinden hangisinin örneği yoktur?

- A) Tırnak içinde olmayan alıntı cümlelerinden sonra kullanılır.
- B) Sıralı cümleleri birbirinden ayırmak için kullanılır.
- C) Birbiri ardınca sıralanan eş görevli kelime veya kelime gruplarının arasında kullanılır.
- D) Uzun cümlelerde yüklemden uzak düşmüş olan özneyi belirtmek için kullanılır.

CEVAP ANAHTARI

TÜRKÇE

1. C
2. C
3. D
4. D
5. C
6. B
7. B
8. B
9. A
10. A

T.C. İNKILAP TARİHİ VE ATATÜRKÇÜLÜK

1. C
2. C
3. B
4. D
5. A

DİN KÜLTÜRÜ VE AHLAK BİLGİSİ

1. C
2. D
3. C
4. A
5. B

YABANCI DİL (İNGİLİZCE)

1. D
2. D
3. B
4. C
5. A



T.C.
MİLLÎ EĞİTİM BAKANLIĞI
ÖLÇME, DEĞERLENDİRME VE SINAV HİZMETLERİ GENEL MÜDÜRLÜĞÜ

2021-2022 EĞİTİM VE ÖĞRETİM YILI
Sınavla Öğrenci Alacak Ortaöğretim Kurumlarına
İlişkin Merkezî Sınava Yönelik
Nisan Ayı Örnek Soruları
(SÖZEL BÖLÜM)

Bu kitapçıkta toplam 25 soru bulunmaktadır.

- Türkçe : 10 soru
- T. C. İnkılap Tarihi ve Atatürkçülük : 5 soru
- Din Kültürü ve Ahlak Bilgisi : 5 soru
- İngilizce : 5 soru

Türkçe Örnek Soruları

1. Aşağıda Türk Dil Kurumunun bir ilanı verilmiştir.

Ç tasarım seans karmaşık **Q** canlandırma sözsüz enstrümantal çevrim içi dizayn **X** oturum komplike on-line animasyon **S**

Yabancı dillerden alınmış sözcüklere Türkçe karşılık bulma çalışmalarına geniş katılım sağlamak ve katkısı olabilecek herkesin görüşlerini almak amacıyla önerilerinizi bekliyoruz. Bu hafta sizlerden Türkçe karşılıklarını bulmanızı beklediğimiz sözcükler ve bunların anlamları aşağıda verilmiştir.

I. Check-up : Sağlık yönünden yapılan genel yoklama.
II. İnovasyon : Değişen koşullara uyabilmek için toplumsal, kültürel ve yönetsel ortamlarda yeni yöntemlerin kullanılmasına başlanması.
III. Spesiyal : Yalnızca bir kişiye, bir şeye ait veya ilişkin olan.
IV. Sponsor : Bilim, sanat, kültür, spor vb. alanlarda yapılacak herhangi bir etkinliğin maddi yönünü üstlenen kimse veya kurum.

Ali, Büşra, Cenk ve Demet ilanda yer alan yabancı sözcüklerin Türkçe karşılıkları için farklı önerilerde bulunmuştur.

Yabancı sözcüklerin anlamları dikkate alındığında aşağıdakilerden hangisinin önerilerinin tercih edilmesi beklenir?

	I	II	III	IV
A) Ali	Tarama	Değişim	Özgün	Üretici
B) Büşra	Tam bakım	Yenileşim	Özel	Destekleyici
C) Cenk	Denetleme	Etkileşim	Kişisel	Yardımcı
D) Demet	İlk yardım	Dönüşüm	Bireysel	Yapımcı

2. Zengin kütüphanesi olan evlerde kitap okuyarak kendini geliştiren çocukların okuma, anlama, yorumlama becerilerinin arttığı ve zihinsel gelişimlerinin olumlu yönde ilerlediği biliniyor. Peki, - - - - Yapılan bir araştırmaya göre çok kitap okuyan kişiler, yaşlılık dönemlerinde daha az bilişsel gerileme gösteriyor. Çocukluktan itibaren kitaplarla haşır neşir olmak, beyinde uzun süreli zihinsel koruyuculuk sağlıyor. Ayrıca küçükken bol bol kitap okumanın, bireyleri spor yapma ve iyi beslenme konusunda bilinçlendirdiği düşünülüyor.

Bu parçada boş bırakılan yere aşağıdaki sorulardan hangisi getirilebilir?

- A) düzenli kitap okuyan kişilerin okul başarılarında gözle görülür bir ilerleme oluyor mu?
B) kitaplarla dolu bir evde kitap kurdu olarak yetişmek ilerleyen yaşlarda da kişilere fayda sağlar mı?
C) kitaplarla iç içe büyüyen çocukların, sosyal ilişkilerinde daha başarılı olduğu düşüncesi doğru mu?
D) çocukların kitap okumayı sevmesinde ebeveynlerin davranışları ne derece etkilidir?

3. Üç salonu bulunan bir spor tesisinin, yaş gruplarına göre aylık kullanım bilgileri aşağıdaki tabloda verilmiştir.

Salonlar	Çocuk (14-18 yaş arası)	Genç (19-23 yaş arası)	Yetişkin (24 yaş ve üzeri)
A - Spor Aletleri Salonu	Koşu bandı* Eliptik bisiklet* Dikey bisiklet** Dambıl**	Beç pres* Koşu bandı** Yatay bisiklet** Kelebek**	Yatay bisiklet* Kelebek* Dikey bisiklet** İstasyon**
B - Havuz (Üyelerin 1 ay içinde en fazla yararlanabilecekleri gün sayısı verilmiştir.)	7 gün* 3 gün**	14 gün* 5 gün**	20 gün* 8 gün**
C - Branş Sporları Salonu (Üyeler sadece birini seçebilir.)	Jimnastik Basketbol	Masa tenisi Salon futbolu	Hentbol Voleybol

* Hafta içi

** Hafta sonu

Bu spor tesisinde kullanıcılara tesis kullanım tercihlerine göre giriş kartı düzenlenmektedir.

Buna göre aşağıdaki giriş kartlarının hangisinde yanlışlık yapılmıştır?

A) **GİRİŞ KARTI**

Havuzdan yararlanılan gün sayısı (hafta içi) : 5 gün
Havuzdan yararlanılan gün sayısı (hafta sonu) : 2 gün
Seçilen spor branşı : Jimnastik
Kullanılacak spor aletleri (hafta içi) : Koşu bandı
Eliptik bisiklet
Kullanılacak spor aletleri (hafta sonu) : Dikey bisiklet
Dambıl

Kerem
Yaş: 15

B) **GİRİŞ KARTI**

Havuzdan yararlanılan gün sayısı (hafta içi) : 6 gün
Havuzdan yararlanılan gün sayısı (hafta sonu) : 1 gün
Seçilen spor branşı : Basketbol
Kullanılacak spor aletleri (hafta içi) : Koşu bandı
Eliptik bisiklet
Kullanılacak spor aletleri (hafta sonu) : Dikey bisiklet
Dambıl

İsmail
Yaş: 17

C) **GİRİŞ KARTI**

Havuzdan yararlanılan gün sayısı (hafta içi) : 10 gün
Havuzdan yararlanılan gün sayısı (hafta sonu) : 3 gün
Seçilen spor branşı : Masa tenisi
Kullanılacak spor aletleri (hafta içi) : Beç pres
Koşu bandı
Kullanılacak spor aletleri (hafta sonu) : Yatay bisiklet
Kelebek

Ahmet
Yaş: 20

D) **GİRİŞ KARTI**

Havuzdan yararlanılan gün sayısı (hafta içi) : 14 gün
Havuzdan yararlanılan gün sayısı (hafta sonu) : 7 gün
Seçilen spor branşı : Voleybol
Kullanılacak spor aletleri (hafta içi) : Yatay bisiklet
Kelebek
Kullanılacak spor aletleri (hafta sonu) : Dikey bisiklet
İstasyon

Tarık
Yaş: 40

4. Bitkiler oldum olası dikkatimi çekmiştir. Nerede daha önce görmediğim bir bitkiye rastlasam hemen adını, özelliklerini, türünü araştırma ihtiyacı hissederim. Bu araştırmalarım esnasında öğrendiğim kimi bitki isimleri beni hayli neşelendirir. Hayret, bu bitkiye neden böyle bir ad verilmiş, diye sorarım kendime. Örneğin küçük, mavi bir çiçek “unutmabeni” adıyla anılır. Bu güzelliği görüp de unutmak mümkün mü? Dokunulduğunda yapraklarını kapattığı için olsa gerek bir başkasının namı “küstüm otu”dur. Peki, Akdeniz’de yetişen ve köklerinden kırmızı boya elde edilen “havacıva”ya ne demeli? Kartopu, civanperçemi, ebegümeci, tekesakalı, devetabanı... Saymakla bitmez. İlginç isim ve bitkiler demişken aklıma geldi, güzel Türkçemizde birbirine ters duran iki çiçekten oluşan nakış motifine nedendir bilinmez (!) “eltieltyeküstü” adı verilmiştir.

Bu metnin anlatımıyla ilgili aşağıdakilerden hangisi söylenemez?

- A) Olasılık bildiren ifade vardır.
- B) Mizahi bir dil kullanılmıştır.
- C) Farklı duyularla ilgili ayrıntılara yer verilmiştir.
- D) Tanık göstermeden yararlanılmıştır.



5. İnsan yıllar içinde mesleğiyle bütünleştiği için kendisini herhangi bir iş yapmıyormuş gibi hissediyor ve farklı uğraşlar bulmak istiyor. Ben de psikolog olmama rağmen kendime uğraş olarak roman yazmayı seçtim. Psikoloji -ben aksini istesem de- romanlarıma kaçınılmaz olarak yansıyor. Olayları tasarlamadan yazdığım için karakterlerin ne yapacaklarını bilmiyorum. Roman başlangıçta ağır ilerliyor, sonra neredeyse onun peşinden koşuyorum. Sabaha karşı uyanıp bilgisayar başına geçtiğim ve birkaç cümle yazdıktan sonra tekrar yatıp uyuduğum bile oluyor. Bildiğim şu ki roman benim için keyifli bir etkinlik.

Düşüncelerini bu şekilde dile getiren bir yazarın aşağıdakilerden hangisini söylemesi beklenmez?


- A) Romanlarımın kurgusuyla ilgili planlama yapmayı tercih etmiyorum.
- B) Romanla ilgili çalışmalar yapmak için günün belirli bir saatini beklemiyorum.
- C) Mesleğim dışındaki bir alanla ilgilenmek hayatımı daha eğlenceli hâle getiriyor.
- D) Mesleki alanda kazandığım tecrübelerimi romanlarıma aktarmayı seviyorum.

6. Üzerindeki yazılım aracılığıyla veri işleyebilen ve elektrikli cihazların işlevlerini kontrol edebilen çok küçük devrelere mikroçip denir. Mikroçipler, kumun eritilmesiyle elde edilen silikon levhalar üzerine elektronik devrelerin yerleştirilmesiyle oluşturulur. Günlük hayatta kullandığımız bazı teknolojik ürünlerde bulunan bu mikroçiplerin üretim aşamaları aşağıda karışık olarak verilmiştir.

- I. Cilalanarak ışığa duyarlı materyallerle kaplanan levhaların üzerine morötesi ışık kullanılarak devre desenleri işlenir.
- II. Kum, yüksek ısıda eritilip arındırılarak ingot adı verilen silikon külçelere dönüştürülür.
- III. Çeşitli testlerden geçirilen çipler, levhaların üzerinden kesilerek paketlenir.
- IV. Devreler, iletkenlerle birbirine bağlanarak çipe dönüşen ürünün kirlenmesini engelleyen koruyucu bir tabakayla kaplanır.
- V. İngotlar, ince daireler şeklinde kesilerek levhalar oluşturulur.

Buna göre mikroçipin üretim aşamaları aşağıdakilerin hangisinde doğru sıralanmıştır?

- A) II - V - IV - III - I B) II - V - I - IV - III C) IV - II - V - I - III D) IV - II - I - III - V



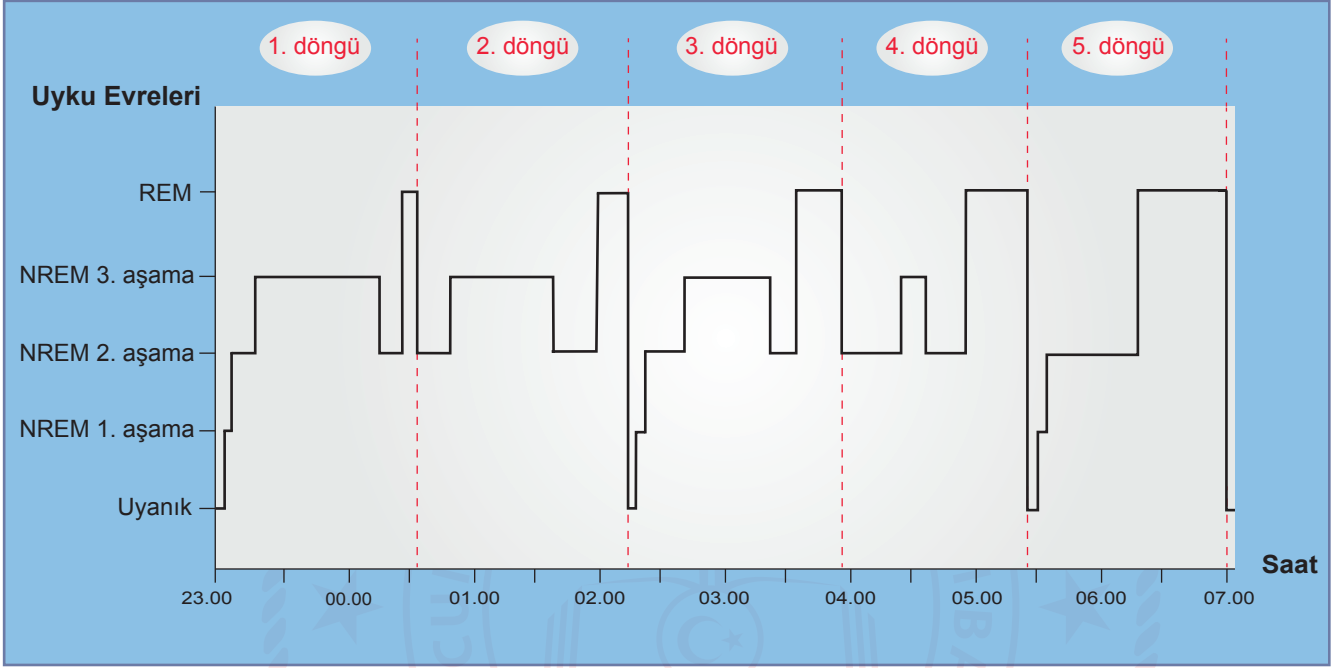
7. Kendimi bildim bileli çok film izlerim. Bunca filmde ne kalıyor geriye; hangi kareler, hangi diyaloglar, hangi duygu geçişleri kendine bir yer buluyor içimde? Bunların belki en önemlisi hikâyelerin, karakterlerin, diyalogların bir şekilde besliyor olması beni. Filmlerin iç dünyamda bir şeyleri değiştirdiği, bana yeni bakma/görme imkânları kazandırdığı bir gerçek. Bir buçuk iki saat boyunca kilitlendiğim bir filmi izlerken kendi hayatımı bir anlamda askıya alıyor, yaşadığım sıkıntılardan o an için sıyrılıyorum. Perdeye aksi düşen kahramanlarla özdeşleşiyor, onların acılarını çekiyor, sevinçlerini yaşıyor, ayrılıklarının ve kavuşmalarının yoğun duygularını içimde taşıyorum. Bu, roman ve hikâyenin ama özellikle de sinemanın başarabildiği bir şey. Bu gücü, insanın en zayıf olduğu yerden yani her şeyin çok daha renkli, heyecan verici olduğu bir başka hayata özleminden alıyor sinema.

Aşağıdakilerden hangisi film izlemenin, bu sözleri söyleyen kişiye etkilerinden biri değildir?

- A) Duygularını dışa vurmaya kolaylaştırması
- B) Farklı bakış açıları kazandırması
- C) Empati yeteneğini geliştirmesi
- D) Yaşamın zorluklarından uzaklaştırması

8. Uyku, NREM ve REM olmak üzere iki evreden oluşur. Kendi içinde üç aşamadan oluşan NREM'in "uykuya dalma" olarak bilinen ilk aşamasında göz hareketleri yavaşlar, istemsiz kas hareketleri gerçekleşir. İkinci aşamada kaslar rahatlamaya, kalp atışı yavaşlamaya başlar. Üçüncü aşama derin uyku aşamasıdır, bu aşamada vücut kendini onarır. Derin uykunun ardından ikinci aşama tekrar yaşanır. Bu aşamadan sonra REM evresi başlar. Rüya uykusu olarak adlandırılan REM evresinde beyin hücreleri yenilenir, gün içinde öğrenilenler hafızaya kaydedilir. NREM ve REM evrelerinden oluşan bu döngü, 8 saatlik bir uykuda gece boyunca genellikle beş kez tekrarlanır ve her biri yaklaşık 90 dakika sürer. Bazı döngülerde REM evresinden sonra kısa süreli uyanma dönemleri yaşanabilir.

Aşağıdaki grafikte 23.00'te yatıp 07.00'de uyanan Kerem'in uyku evreleri gösterilmiştir.



Bu metin ve grafikten hareketle Kerem'in uyku evreleriyle ilgili aşağıdakilerden hangisi söylenemez?

- A) Rüya uykusunda olduğu evrenin süresi, her döngüde artış göstermiştir.
B) Kalp atışlarında yavaşlamanın olduğu aşamayı, 5. döngüde bir kez yaşamıştır.
C) Gece boyunca iki kez uyanıp tekrar uyumuştur.
D) En uzun süren derin uyku aşamasını 3. döngüde yaşamıştır.
9. (I) Dağ motifi; destandan türküye, kilimlerden halı desenlerine kadar birçok alanda kullanılır. (II) Türkler, bu motiften zengin çağrışımlar çıkarabilmeyi başarmış bir millettir. (III) Sadece türkülerimizi dinlemek bile bu hakikati gözler önüne sermeye yeter. (IV) İnsani duyguların ortaya konduğu hemen her alanda dağ motifi kullanılır, insan bu motifin ifade ettiği gücü önemser.

Bu parçada numaralanmış cümlelerle ilgili aşağıdakilerden hangisi söylenemez?

- A) I. cümle, yüklemdeki yargı gerçekleştiğinden anlamca olumludur.
B) II. cümle, yüklemi sonda olduğundan kurallıdır.
C) III. cümle, yüklemi isim olduğundan isim cümlesidir.
D) IV. cümle, virgülle ayrılmış iki cümleden oluştuğu için birden çok yüklemlidir.

10. Türkçede satır sonu hece bölünmesiyle ilgili bazı kurallar şu şekildedir:

- Kelime içinde yan yana gelen üç ünsüz harften ilk ikisi kendinden önceki ünlüyle, üçüncüsü kendinden sonraki ünlüyle hece kurar. Satır sonu hece bölünmesi yapılırken bu kurala dikkat edilir.
- İlk heceden sonraki heceler ünsüzle başlar, bitişik yazılan kelimelerde de satır sonu hece bölünmesi yapılırken bu kurala uyulur.
- Kesme işareti satır sonuna geldiğinde yalnızca kesme işareti kullanılır, ayrıca kısa çizgi kullanılmaz.
- Heceleri ayırırken satır sonunda ve başında tek harf bırakılmaz.

Buna göre aşağıdakilerin hangisinde satır sonu hece bölünmesi doğru yapılmıştır?

A) Art-
vin'de

B) ilk-
okul

C) a-
yırmak

D) 1996'-
dan

CEVAP ANAHTARI

TÜRKÇE

1. B
2. B
3. C
4. D
5. D
6. B
7. A
8. D
9. C
10. A

T.C. İNKILAP TARİHİ VE ATATÜRKÇÜLÜK

1. B
2. D
3. A
4. B
5. C

DİN KÜLTÜRÜ VE AHLAK BİLGİSİ

1. D
2. C
3. D
4. A
5. B

YABANCI DİL (İNGİLİZCE)

1. C
2. D
3. C
4. B
5. D



T.C.
MİLLÎ EĞİTİM BAKANLIĞI
ÖLÇME, DEĞERLENDİRME VE SINAV HİZMETLERİ GENEL MÜDÜRLÜĞÜ

2021-2022 EĞİTİM VE ÖĞRETİM YILI
Sınavla Öğrenci Alacak Ortaöğretim Kurumlarına
İlişkin Merkezî Sınava Yönelik
Mayıs Ayı Örnek Soruları
(SÖZEL BÖLÜM)

Bu kitapçıkta toplam 25 soru bulunmaktadır.

- Türkçe : 10 soru
- T. C. İnkılap Tarihi ve Atatürkçülük : 5 soru
- Din Kültürü ve Ahlak Bilgisi : 5 soru
- İngilizce : 5 soru

Türkçe Örnek Soruları

1 ve 2. soruları aşağıdaki metne göre cevaplayınız.

Bir saat, her zaman bir saatlik zaman dilimi olarak hissedilmez; kimi zaman uzayıp bir gün olur, kimi zaman birkaç savruk dakika. İnsan, sevdiği bir eylemi gerçekleştirirken akrep ve yelkovan yarışa koyulur. Su gibidir zaman o an; akıp gider, fark edilmez. Bazen de kaplumbağanın dünya turu misali ağır aksak yürür. Saniyeler dakika, dakikalar saattir o vakit ve gözler her daim akrep ile yelkovanın üzerinde. Kim bilir ömür hırsızı ne anları vardır insanın, zamanından zaman çalan. İnsanın yaşadığı süreden, geçmek bilmeyen o anlar çıkarıldığında artakalan şey ömürdür.

1. Bu parçadaki altı çizili sözle aşağıdakilerden hangisi anlatılmak istenmiştir?

- A) Zamanın bir an önce geçmesinin istendiği
- B) İşlerin vaktinde yapılması için gayret edildiği
- C) Yaşanan mutluluğun bitmesinden korkulduğu
- D) Her dakikanın dolu dolu geçirilmesinin amaçlandığı

2. Bu metinde yazar,

- I. Zamanın akış hızı görecelidir.
- II. Ömür, insanın yaşadığı sürenin tamamı değildir.
- III. Mutlu olduğu anlar, insana çok uzun gelir.

yargılarından hangilerine vurgu yapmaktadır?

- A) Yalnız I
- B) Yalnız III
- C) I ve II
- D) II ve III

3.

Pomodoro

İtalyancada domates anlamına gelen pomodoro, bir çalışma sürecinde zamanı verimli kullanmak için geliştirilen zaman yönetim tekniğidir. Bu teknikte zaman yönetimi, pomodoro sayacıyla yapılır. Pomodoro tekniğinin uygulama aşamaları şu şekildedir:

1 Üzerinde çalışılacak konuyla ilgili hedefleri belirle, konuyu alt başlıklara ayır.

2 Pomodoro sayacını 25 dakikaya ayarla, bu süre boyunca yalnızca konunun ilk bölümüne odaklan.

3 25 dakika dolunca 5 dakika mola ver. Bu molayı çalışılan konu dışındaki bir etkinlikle değerlendirdikten sonra çalışmaya geri dön.

4 Aynı döngüyü üç kez daha tekrarla, toplamda dört pomodoro zaman dilimini tamamla.

5 Dört pomodoro sonrası 15-30 dakika mola ver. Bu uzun molayı her dört pomodorodan sonra tekrarla. (Bir günde en fazla on iki pomodoro uygulanabilir.)

6 Hedeflenen çalışma tamamlandıktan sonra hedefin gerçekleşip gerçekleşmediğini değerlendir.

1 pomodoro=30 dakika

Buna göre fiilimsiler konusunu çalışırken pomodoro tekniğini uygulayan bir öğrencinin aşağıdaki davranışlarından hangisi yanlıştır?

- A) Fiilimsiler konusunu bölümlere ayırarak ilk 25 dakika konunun birinci bölümünü çalışmıştır.
- B) 5 dakikalık molada, sevdiği şarkıyı sözlerinde geçen fiilimsileri bulmak için dinlemiştir.
- C) Her dört pomodoro arasında 20 dakikalık molalar vererek konuyu on pomodoro süresinde tamamlamıştır.
- D) Çalışma sonunda fiilimsilerle ilgili soru çözüp anlamadığı bölümleri tespit etmiştir.

4. Hayat ile bağı olan edebiyat, samimi bir edebiyattır. Hayatı karışık yönleriyle anlatmayan, duyguları saf bir şekilde duyurmayan, elemleri açıkça yansıtmayan edebiyat ürünleri samimi olarak nitelendirilemez. Böyle ürünler kış bahçelerinde yetişen iri yapraklı, parlak renkli çiçeklere benzer. Nasıl ki bu çiçekler çok sıcak bir havaya ya da sert bir rüzgâra dayanamazsa - - - -

Bu parçanın sonuna düşüncenin akışına göre aşağıdakilerden hangisi getirilmelidir?

- A) edebî yönden eksiklikleri bulunan eserlerin de zaman içinde unutulup gitmesi kaçınılmazdır.
- B) sadece belirli bir kesime hitap eden edebiyat da toplumun beklentilerini karşılamadığı için rağbet görmez.
- C) yaşamla ilgisi olmayan edebiyat da zamanın sonsuz kasırgaları önünde savrulup gitmeye mahkûm olur.
- D) üslup itibarıyla kusursuz olan edebiyat da içerik bakımından zayıf olduğunda kurak iklimlerdeki güller gibi solar.

5. Doğada farklı türden pek çok canlı, belli ortamlarda birlikte yaşar. Canlıların, yaşamlarını ortak olarak devam ettirmesini sağlayan bu duruma ortak yaşama (simbiyoz) denir. Ortak yaşamanın yaygın görülen üç çeşidi vardır. Bunlardan karşılıklı birliktelik adı verilen çeşidinde iki farklı tür de birbirinden yarar sağlar. Bir diğer ortak yaşama çeşidi olan tek taraflı birliktelikte bir taraf yarar sağlarken diğeri fayda ya da zarar görmez. Parazitlik adı verilen çeşidinde ise konuklar durumdan memnunken ev sahipleri olumsuz etkilenir. Aşağıda ortak yaşama çeşitlerine örnekler verilmiştir.

- I. Karıncaların, kendilerine yuva sağlayan akasya ağaçlarının dayanıklılığını azaltan filizlerle beslenmesi
- II. Orkidelerin, güneş ışığını daha fazla alabilmek için tutunduğu ağaçların bu durumdan etkilenmemesi
- III. Yaprak bitlerinin, üzerine tutunduğu bitkinin öz suyunu emdiği için bitkinin besin kaybetmesi

Bu metne göre, numaralanmış örneklerin ait olduğu ortak yaşama çeşitleri aşağıdakilerin hangisinde doğru işaretlenmiştir?

A)

	Tek Taraflı Birliktelik	Karşılıklı Birliktelik	Parazitlik
I.			✓
II.	✓		
III.		✓	

B)

	Tek Taraflı Birliktelik	Karşılıklı Birliktelik	Parazitlik
I.		✓	
II.			✓
III.	✓		

C)

	Tek Taraflı Birliktelik	Karşılıklı Birliktelik	Parazitlik
I.	✓		
II.		✓	
III.			✓

D)

	Tek Taraflı Birliktelik	Karşılıklı Birliktelik	Parazitlik
I.		✓	
II.	✓		
III.			✓

6. Defne, bir arkadaşının kendisine gönderdiği yazının ilk paragrafı ile ilgili şu önerilerde bulunmuştur:

- İkinci cümle anlama bir katkı sağlamadığından paragraftan çıkarılabilir.
- İddianı ispatlamak üzere bir atasözü veya özdeyişten yararlanmalısın.
- Anlatımını birinci kişi ağzıyla gerçekleştirmen, üslubuna içtenlik kazandırabilmede yarar sağlayacaktır.

Buna göre Defne'nin önerilerde bulunduğu paragraf aşağıdakilerden hangisidir?


A) Mütevazı bir insan, tevazu sahibi olduğunu öne sürmez. Başka bir deyişle alçak gönüllülük suyun akışı, yağmurun yağışı gibi kendiliğinden olur; niyetle değil. Nitekim bir düşünürün "Tevazu gösterdiğinin farkındaysan kibirden kurtulamadın." sözü tam da bu noktaya işaret eder.

B) Araştırmalara göre iletişim esnasında sarf edilen sözler, fikirlerin en fazla yüzde kırkını yansıtabiliyor. Bu durum dilin, düşünceleri aktarmada yetersiz olduğu anlamına geliyor. İlginçtir ki iletişimin geri kalanı genellikle bilinç dışı unsurlar üzerinden gerçekleştiriliyor.

C) Kendilerinin zarar göreceğini bilseler de sözlerinde duran insanlara dürüst denir. Dürüst insanlar, çıkarlarına ters olsa da sözlerini tutarlar. Onlar, her türlü etki karşısında sonuna kadar direnirler. Düşündükleri, söyledikleri ve yaptıkları hep uyum içindedir.

D) Kendi davranışlarımızı nesnel bir gözle tartmakta bir hayli zorluk çekeriz çünkü duygularımız, resmi net bir şekilde yorumlamamızın önüne geçer. Kendimize, başka insanların bizi gördüğü açıdan bakabilseydik hatalı davranışlarımızı daha kolay düzeltebilirdik.

7. A, B, C, D, E ve F cihazlarını aynı anda bilgisayara bağlamak için aşağıdaki çoğaltıcı kullanılmıştır. Bu çoğaltıcıda numaralanmış girişlerin ikisi siyah, dördü mavi renktedir ve aynı renk girişler yan yana sıralanmıştır.



Cihazlar ve bağlandıkları girişlerle ilgili şunlar bilinmektedir:

- A ve D cihazları farklı renkteki girişlere yan yana bağlanmıştır.
- B ve E cihazları aynı renkteki girişlere bağlanmıştır.
- C cihazı 3 numaralı mavi girişe bağlanmıştır.
- F ile A cihazının girişleri yan yana değildir.

Buna göre aşağıdakilerden hangisi kesinlikle doğrudur?

- A) A cihazı 1 numaralı siyah girişe bağlanmıştır.
B) D cihazı 4 numaralı mavi girişe bağlanmıştır.
C) E cihazı 2 numaralı mavi girişe bağlanmıştır.
D) F cihazı 6 numaralı siyah girişe bağlanmıştır.

8. Eskiden polisiye romana değer verilmediği gibi polisiye yazarları da bu alanı sahiplenmiyordu. Çünkü bu roman türü, kendini toplumsal meselelerden soyutlamıştı. Fakat 1990'lı yıllarda durum değişti. Bu dönemde birçok polisiye yazarı, artık toplumla iç içe olduğu için göğsünü gere gere "Ben polisiye yazarıyım." diyebildi. Bugün dünyada milyonlarca insanın polisiye okuduğuna, bu türde binlerce roman yazıldığına, dizilere ve sinema filmlerine uyarlanan romanların çoğunun polisiye olduğuna bakılırsa polisiye romanın, olması gereken noktaya eriştiği söylenebilir.

Bu metinden hareketle polisiye romanla ilgili aşağıdaki sorulardan hangisine "Farklı sanat dallarına kaynaklık etmesi, büyük bir okur kitlesinin bulunması ve çok sayıda eser yazılmasıdır." şeklinde cevap verilebilir?

- A) Hak ettiği yere geldiğinin göstergelerini sıralayabilir misiniz?
B) Dünyada en çok okunan türlerden biri olmasını neye bağlıyorsunuz?
C) Toplumsal sorunlara yönelme gerekçelerini belirtebilir misiniz?
D) Geçmişte seçkin bir roman türü olmamasının sebepleri nelerdir?

CEVAP ANAHTARI

TÜRKÇE

1. A
2. C
3. B
4. C
5. D
6. C
7. D
8. A
9. B
10. B

T.C. İNKILAP TARİHİ VE ATATÜRKÇÜLÜK

1. A
2. B
3. D
4. C
5. C

DİN KÜLTÜRÜ VE AHLAK BİLGİSİ

1. C
2. D
3. A
4. B
5. C

YABANCI DİL (İNGİLİZCE)

1. A
2. C
3. C
4. D
5. D